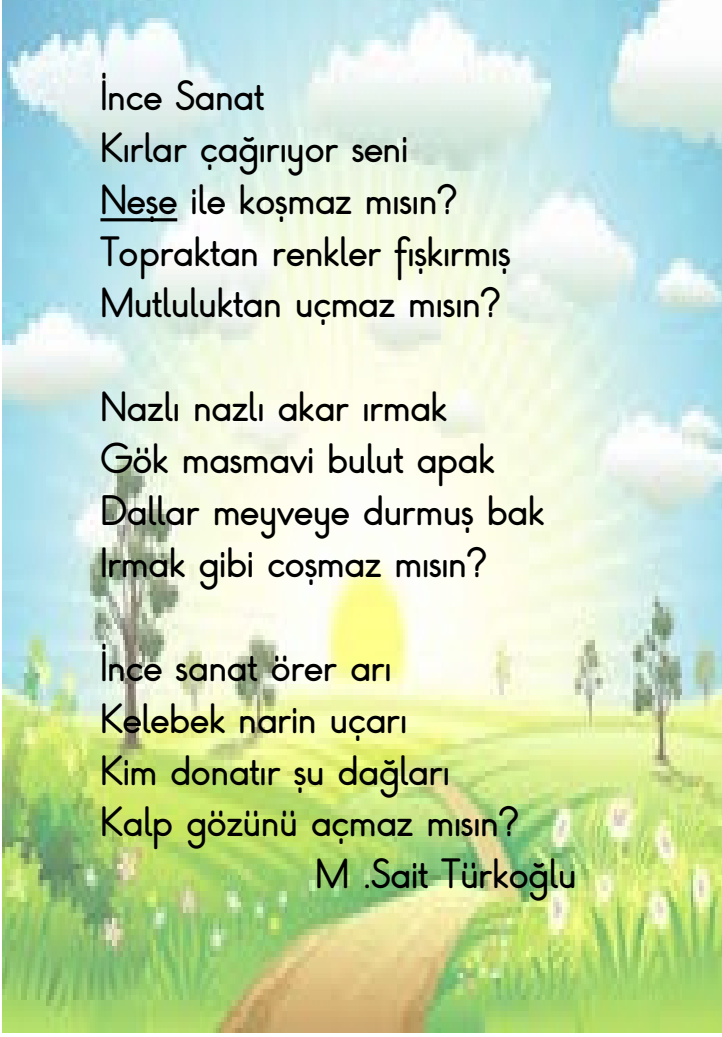


Adı:  
Soyadı:

### 3.Sınıf 10. Hafta Ödevleri

Türkçe

Ogretmendolabi.com



İnce Sanat  
Kırlar çağırıyor seni  
Neşe ile koşmaz mısın?  
Toprakten renkler fıskırmış  
Mutluluktan uçmaz mısın?

Nazlı nazlı akar ırmak  
Gök masmavi bulut apak  
Dallar meyveye durmuş bak  
Irmak gibi coşmaz mısın?

İnce sanat örer arı  
Kelebek narin uçarı  
Kim donatır şu dağları  
Kalp gözünü açmaz mısın?  
M .Sait Türkoğlu



Aşağıdaki soruları yukarıdaki şiire göre yanıtlayınız.

1

Şiirde aşağıdaki hayvanlardan hangisinden bahsedilmemiştir?

A)



B)



C)



2

Şiire göre topraktan fıskıran nedir?

- A) Neşe fıskırmaktadır.
- B) Renkler fıskırmaktadır.
- C) Bulut fıskırmaktadır.

3

Şiir kaç dizeden oluşmuştur?

- A) 12
- B) 3
- C) 10

4

Şiirde bulunan altı çizili kelimenin eş anlamlısı hangisidir?

- A) öfke
- B) şevinç
- C) üzüntü

5

Şiirin ilk dördlüğü kaç heceden oluşmuştur?

- A) 33
- B) 34
- C) 32

Adı:  
Soyadı:

### 3.Sınıf 10. Hafta Ödevleri

Türkçe

Ogretmendolabi.com



Aşağıdaki boş yerlere verilen kelimelerin zıt anlamlarını yazınız.

1	
2	
3	
4	
5	
6	
7	
8	
9	
10	



- |   |         |    |       |
|---|---------|----|-------|
| 1 | kirli   | 6  | acemi |
| 2 | batı    | 7  | kuzey |
| 3 | dar     | 8  | ince  |
| 4 | taze    | 9  | dolu  |
| 5 | tanıdık | 10 | özgür |



Aşağıdaki soruları cevaplayınız.



1 Aşağıdaki cümlelerin hangisinde zıt anlamlı kelimeler bir arada kullanılmıştır?

- A) Yaşlı adam, genç çocuğun yanına gitti.  
B) Özgürlüğümüz daim olacaktır.  
C) Kedinin siyah tüyleri iyice dökülmüştü.



2 Aşağıdaki sözcük çiftlerinden hangisi anlam bakımından diğerlerinden farklıdır?

- A) özgür-hür  
B) uzak-yakın  
C) okul-mektep



3 Aşağıdaki sözcüklerden hangisinin zıt anlamlısı yoktur?

- A) bayat  
B) eksik  
C) gözlük

küçük



4 Yukarıdaki kelimenin hem zıt anlamlısı hem eş anlamlısı aynı cümlede kullanılmıştır?

- A) Büyük köpek, ufak kedinin peşine takıldı.  
B) Emre ödevlerinin çoğunu bitirdi.  
C) Buradaki en büyük evi sattılar.

Adı:  
Soyadı:

### 3.Sınıf 10. Hafta Ödevleri

Türkçe

Ogretmendolabi.com



Aşağıdaki tekil isimleri çoğul isim yapınız.

bardak	
havuç	
keci	
kasap	
araba	
ev	
saat	
ağaç	
maymun	



Aşağıdaki çoğul isimleri tekil hale getiriniz.

defterler	
ayakkabılar	
çoraplar	
binalar	
kediler	
gözlükler	



Aşağıdaki soruları cevaplayınız.



1 Aşağıdaki cümlelerin hangisinde çoğul ad kullanılmıştır?

- A) Babam bugün yeni araba aldı.  
B) Abim asker oldu.  
C) Çocuklar lunaparka otobüsle gitti.



2 sürü kiler masa  
insanlar ordu uçaklar

Yukarıda verilenlerden kaç tanesi topluluk adıdır?

- A) 2 B) 3 C) 4



3 Aşağıdaki adlardan hangisi çoğul eki almadığı halde birden çok varlığı belirtir?

- A) ev B) düzine C) lamba



4 Aşağıdakilerden hangisinin sonuna 'ler' eki getirilirse çoğul bir ad elde edilir?

- A) çok  
B) ve  
C) pencere

Adı:  
Soyadı:

### 3.Sınıf 10. Hafta Ödevleri

Türkçe

Ogretmendolabi.com



Kelebeklerin üzerinde yazan kelimeler tekil ise turuncuya, çoğul ise maviye, topluluk ismi ise yeşile boyayınız.

bilgisayar

sürü

dolaplar

meclis

kitap

aile

kalemler

yastık

halılar

bisiklet

böyük

buket

kova

çiçekler

yüzükler

demet

fare

Adı:  
Soyadı:

### 3.Sınıf 10. Hafta Ödevleri

Matematik

Ogretmendolabi.com

#### Toplama ve Çıkarma İşlemi Gerektiren Problemler-1

1  
Bir çıkarma işleminde çıkan 457,  
fark 324 ise eksilen sayı kaçtır?

4  
Sefa Bey'in çiftliğinde 478 inek,  
ineklerden 89 eksik koyun vardır.  
Buna göre Sefa Bey'in çiftliğinde  
kaç hayvan vardır?

2  
Bir sayının 241 fazlası 489'dur.  
Bu sayının 200 eksiği kaçtır?

5  
Nazmi 184 sayfalık kitabın 1. gün 47  
sayfasını, 2. gün 1. günün  
22 sayfa fazlasını okudu.  
buna göre geriye okunacak kaç  
sayfa vardır?

3  
Babam 6 yıl önce 48 yaşındaydı.  
Buna göre babam 5 yıl sonra  
kaç yaşında olur?

6  
10 yıl önce 8 yaşında olan Kemal,  
7 yıl sonra kaç yaşında olur?

Adı:  
Soyadı:

Toplama ve Çıkarma İşlemi  
Gerektiren Problemler-2

1  
Elektrik: 134 TL  
Su: 114  
Doğalgaz: 489  
974 TL'si olan Yılmaz Bey, yukarıdaki faturaları öderse geriye kaç parası kalır?

4  
Bakkal üç ayda 678 yumurta satıyor.  
1. ay 205, 2. ay 189 yumurta sattığına göre 3. ay kaç yumurta satmıştır?

2  
478 sayısının 254 eksiğinin 147 fazlası kaçtır?

5  
 $387 - 149 < A$   
ifadesinde A yerine yazılabilecek en küçük sayının 140 fazlası kaçtır?

3  
Bir çıkarma işleminde eksilen 748'dir.  
Fark 374 olduğuna göre çıkan sayı kaçtır?

6  
745 sayısının 142 fazlasının 287 eksiği kaçtır?




Adı:  
Soyadı:

Çetele Tablosu



Aşağıda verilenlere göre çetele tablosu oluşturunuz.


1. Aşağıda bir sepette bulunan meyveler verilmiştir.(Her şekil bir meyveyi belirtmektedir)



Tablo: Sepetteki Meyveler Çetele Tablosu

Meyveler	Meyvelerin Sayısı
Muz	
Elma	
Armut	

2. Aşağıda bir sepette bulunan çiçekler verilmiştir.(Her şekil iki çiçeği belirtmektedir)



Tablo: Sepetteki Çiçekler Çetele Tablosu

Çiçekler	Çiçeklerin Sayısı
Gül	
Papatya	
Lale	



Aşağıda verilenlere göre çetele tablosu oluşturunuz.

1. Bir çiftlikte 9 keçi , 11 inek ve 8 koyun vardır.

Tablo: Çiftlikteki Hayvanlar Çetele Tablosu

Hayvanlar	Hayvanların Sayısı
Keçi	
İnek	
Koyun	

2. 3/A sınıfında 14 futbol, 7 basketbol ve 9 kişi tenis seviyor.

Tablo: Sevilen Spor Dalları Çetele Tablosu

Spor Dalları	Spor Sevenlerin Sayısı
Futbol	
Basketbol	
Tenis	



Adı:  
Soyadı:

Sıklık Tablosu



Aşağıda verilene göre sıklık tablosu oluşturunuz.


1. Aşağıda bir hayvanat bahçesinde bulunan hayvanlar verilmiştir.(Her şekil bir hayvanı belirtmektedir)



Tablo: Hayvanat Bahçesindeki Hayvanlar

Hayvanlar	Hayvanların Sayısı
Tilki	
Ayı	
Aslan	

2. Aşağıda bir bahçeye dikilen çiçekler verilmiştir.(Her şekil iki çiçeği belirtmektedir)



Tablo: Bahçeye Dikilen Çiçekler

Çiçekler	Çiçeklerin Sayısı
Gül	
Papatya	
Lale	



Aşağıda verilene göre sıklık tablosu oluşturunuz.

1. Bir çiftlikte 15 keçi , 24 inek ve 9 koyun vardır.

Tablo: .....

Hayvanlar	Hayvanların Sayısı
Keçi	
İnek	
Koyun	

2. 3/A sınıfında 17 öğrenci Türkçe, 16 öğrenci matematik ve 8 öğrenci de fen bilimleri dersini seviyor.

Tablo: .....





Adı:  
Soyadı:

### 3.Sınıf 10. Hafta Ödevleri

Matematik

Ogretmendolabi.com

#### Sıklık Tablosu



Aşağıdaki çetele tablolarını sıklık tablosuna dönüştürünüz.

**Tablo:** Hayvanat Bahçesindeki Hayvanların Çetele Tablosu

Hayvanlar	Hayvanların Sayısı
Panda	###
Tilki	### ###
Maymun	### ### ###

**Tablo:** Hayvanat Bahçesindeki Hayvanların Sıklık Tablosu

Hayvanlar	Hayvanların Sayısı
Panda	
Tilki	
Maymun	

**Tablo:** En Sevilen Kitap Türleri Çetele Tablosu

Kitap Türleri	Kişi Sayısı
Roman	### ###
Hikâye	### ###
Şiir	### ###

**Tablo:** En Sevilen Kitap Türleri Çetele Tablosu

Kitap Türleri	Kişi Sayısı
Roman	
Hikâye	
Şiir	



Aşağıdaki sıklık tablolarını çetele tablosuna dönüştürünüz.

**Tablo:** En Sevilen Renkler Sıklık Tablosu

Renkler	Kişi Sayısı
Siyah	8
Kırmızı	11
Pembe	9

**Tablo:** En Sevilen Renkler Çetele Tablosu

Renkler	Kişi Sayısı
Siyah	
Kırmızı	
Pembe	

**Tablo:** En Sevilen Oyunlar Sıklık Tablosu

Oyunlar	Kişi Sayısı
Yakan Top	12
İstop	10
Tablet Oyunu	5

**Tablo:** En Sevilen Oyunlar Çetele Tablosu

Oyunlar	Kişi Sayısı
Yakan Top	
İstop	
Tablet Oyunu	

Adı:  
Soyadı:

### 3.Sınıf 10. Hafta Ödevleri


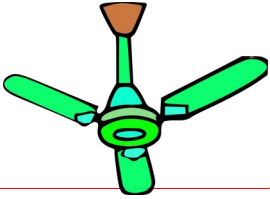
Fen Bilimleri

Ogretmendolabi.com

#### Hareketli Varlıkların Sebep Olabileceği Tehlikeler



Aşağıdaki hareketli varlıklardan hangilerini durdurmaya çalışmak tehlikelidir? İşaretleyiniz.



Aşağıdaki ifadelerden doğru olanların başına 'D', yanlış olanların başına 'Y' yazınız.

Pervanesi dönen makineleri elle durdurabiliriz.



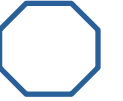
Araçların gittiği yolda koşmak tehlikelidir.



Her hareketli varlığı elimizle durdurmamalıyız.



Kaykaya binerken kask ve dizlik takmak gerekmez.



Salıncak hareket halindeyken önünden geçmemeliyiz.



Depremi etkilerini alacağımız önlemlerle azaltabiliriz.



Ehliyet sahibi olmadan araba kullanmak tehlikelidir.



Okul koridorunda koşmak herhangi bir tehlikeye yol açmaz.



Lunaparktaki oyuncağa güvenlik önlemlerini alarak binmeliyiz.



Adı:  
Soyadı:


### 3.Sınıf 10. Hafta Ödevleri

Fen Bilimleri


Ogretmendolabi.com

#### Hareketli Varlıkların Sebep Olabileceği Tehlikeler


Aşağıda verilen doğal afetlerin isimlerini altlarına yazınız.



.....



.....



.....



.....



.....

Doğal afetlerin yol açabileceği tehlikeli durumlara 5 tane örnek yazınız.

- 1.....
- 2.....
- 3.....
- 4.....
- 5.....

Aşağıda verilen kavramlara ikişer tane örnek yazınız.

Sallanma hareketi :

- 1.....
- 2.....

Dönme hareketi :

- 1.....
- 2.....

Hızlanma hareketi :

- 1.....
- 2.....

Yavaşlama hareketi :

- 1.....
- 2.....

Yön değiştirme hareketi :

- 1.....
- 2.....

İtme kuvveti :

- 1.....
- 2.....

Çekme kuvveti :

- 1.....
- 2.....

Adı:  
Soyadı:

### 3.Sınıf 10. Hafta Ödevleri

Hayat Bilgisi

Ogretmendolabi.com

#### Evimizin Krokisi



Aşağıdaki boş alana evinizin krokisini çiziniz.



Aşağıdaki boşlukları çizdiğiniz krokiye göre yanıtlayınız.

Evimizin doğusunda ..... vardır.

Evimizin batısında ..... vardır.

Evimizin kuzeyinde ..... vardır.

Evimizin güneyinde ..... vardır.



Öğretmeniniz sizi evinizde ziyaret edecektir. Öğretmeninize evinizi nasıl tarif edersiniz ? Aşağıya yazınız.