



Adı:  
Soyadı:

### 3.Sınıf 12. Hafta Ödevleri



Türkçe



## MUSTAFA KEMAL'İ DÜŞÜNÜYORUM

Mustafa Kemal'i düşünüyorum;  
Yeleleri alevden al bir ata binmiş  
Aşıyor yüce dağları, engin denizleri.  
Altın saçları dalgalanıyor rüzgârda,  
Işıl ışıl yanıyor mavi gözleri,

Mustafa Kemal'i düşünüyorum;  
Yanmış, yıkılmış savaş meydanlarında  
Destanlar yaratıyor cihanın görmediği,  
Arkasından dağ dağ ordular geliyor  
Her askeri Mustafa Kemal gibi.

Mustafa Kemal'i düşünüyorum;  
Gelmiş geçmiş kahramanlara bedel  
Hükmediyor uçsuz bucaksız göklere  
Al bir ata binmiş yalın kılıç  
Koşuyor zaferden zafere.

Ümit Yaşar OĞUZCAN



Aşağıdaki soruları şiire göre yanıtlayınız.

1) Şiirde bulunan çoğul adları bularak yazınız.

---

---

2) Şiirde geçen altı çizili kelimelerin eş anlamlılarını yazınız.

---

---

3) Şiirde bulunan 5 heceli kelimeleri bularak yazınız.

---

---



Adı:  
Soyadı:

### 3.Sınıf 12. Hafta Ödevleri

Türkçe



#### Hatırlayalım!




Alfabemizin 19. harfi ile başlayan görseli boyayınız.

A.



B.



C.



Alfabemizin 24. harfi ile başlayan görseli boyayınız.

A.



B.



C.



Alfabemizin 15. harfi ile başlayan görseli boyayınız.

A.



B.



C.



Aşağıdaki tabloyu örnekteki gibi doldurunuz.



Kelime	Kelimenin Hecelenişi	Hece Sayısı	Harf Sayısı
İlkokul	il-ko-kul	3	7
Hanımeli			
Dert			
Ankara			
İlköğretim			
Traktör			



Adı:  
Soyadı:

### 3.Sınıf 12. Hafta Ödevleri

Türkçe



Hatırlayalım!



Aşağıdaki sözcükleri alfabe sıralamasına uygun olarak örnekteki gibi yazınız.

sözlük	1	sakız
sakız	2	sözcük
sözcük	3	sözlük

çilek	1	
çorap	2	
çay	3	

fare	1	
gürültü	2	
güz	3	

simit	1	
sincap	2	
salatalık	3	



Aşağıdaki sözcüklerden satır sonunda doğru bölünenlerin kutucuğuna 'D', yanlış bölünenlerin kutucuğuna 'Y' yazınız.



Adı:  
Soyadı:

### 3.Sınıf 12. Hafta Ödevleri

Türkçe



## Hikâye Unsurları

### ÇOBAN İLE KURT

Kurt ormanda bir türlü karını doyuramaz olmuş. Bir gün bir sürü ile karşılaşmış. Nasıl edip, ne yapayım da sürüye yaklaşayım diye düşünürken, aklına çoban olmak gelmiş. Hemen kendisine bir kepenek bulmuş, eline uzun bir değnek almış. Gerçek çobandan hiç farkı yokmuş.

"Kılığım gibi sesimi de benzetmeliyim." demiş. Fakat çoban gibi seslenmeyi becerememiş. Seslenince sesi gümbür gümbür gümbürdemiş, kurdun sesini duyan çoban ve köpekler uyanmışlar. Üzerindeki kepeneğin ağırlığından hızlı kaçamayan kurdu yakalayıp, ağaca bağlamışlar. Kurdun haline gelen giden hayvanlar gülmüşler.

Sahtekârlar ne kadar kurnaz olurlarsa olsunlar, bir gün elbet yakayı ele verirler.



Olay

.....  
.....



Yer

.....

Hikâyenin adı

.....

Zaman

.....  
.....

Karakterler

.....  
.....



Okuduğunuz metnin konusu nedir? Yazınız.

---

---



Adı:  
Soyadı:

### 3.Sınıf 12. Hafta Ödevleri

Türkçe



## Gerçek ve Hayal Ürünü Ögeler



Çocukların söyledikleri cümlelerden hayal unsuru ögeler içerenlerin altındaki kutucuğa 'H', gerçek unsuru ögeler içerenlere 'G' yazınız.



Kuşlar gibi kanatlarım  
olsa da tüm dünyayı  
dolaşsam.



Bu gece yağmur yağmış.



Arkadaşlarımla parkta  
oynamayı çok seviyorum.



Atım tarlada koşmak  
istediğini söyledi.



Yürüyen merdivenlerden  
düşüm.



Gökkuşáğına salıncak kurup  
sallandım.



Keloğlan, ejderhadan hemen  
kaçtı.



Kuşlar için yuva yaptım.



Adı:  
Soyadı:

### 3.Sınıf 12. Hafta Ödevleri



Matematik



Aşağıda verilenlere göre çetele, sıklık ve grafik tablosunu oluşturunuz.

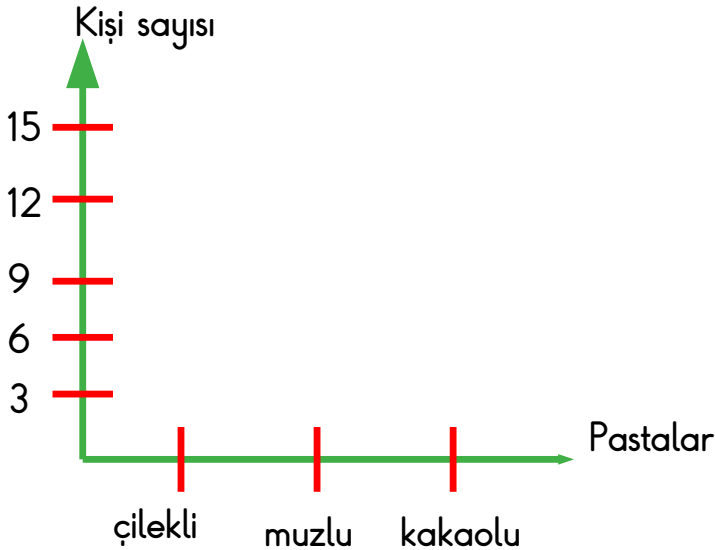
3/A sınıfında 9 kişi çilekli, 12 kişi muzlu  
15 kişi kakaolu pasta sevmektedir.

Tablo: Sevilen Pasta Çeşitleri Çetele Tablosu

Pastalar	Kişi sayısı
çilekli	
muzlu	
kakaolu	

Tablo: Sevilen Pasta Çeşitleri Sıklık Tablosu

Pastalar	Kişi sayısı
çilekli	
muzlu	
kakaolu	



Her şekil 3 kişiyi göstermektedir.



Aşağıda verilenlere göre çetele, sıklık ve grafik tablosunu oluşturunuz.

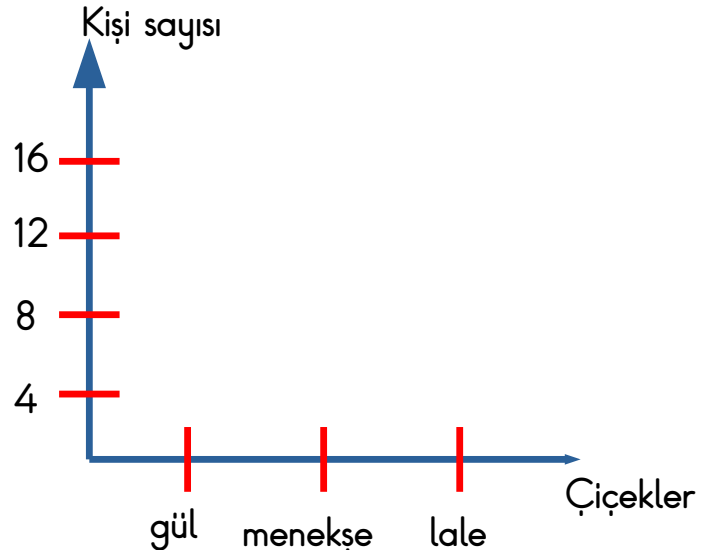
Bir bahçeye 8 lale, 12 gül ve 16 menekşe  
dikilmiştir.

Tablo: Çiçekler Çetele Tablosu

Çiçekler	Sayı
gül	
menekşe	
lale	

Tablo:Çiçekler Sıklık Tablosu

Çiçekler	Sayı
gül	
menekşe	
lale	



Her şekil 4 kişiyi göstermektedir.



Adı:  
Soyadı:

### 3.Sınıf 12. Hafta Ödevleri



Matematik



Aşağıda verilenlere göre çetele, sıklık ve grafik tablosunu oluşturunuz.

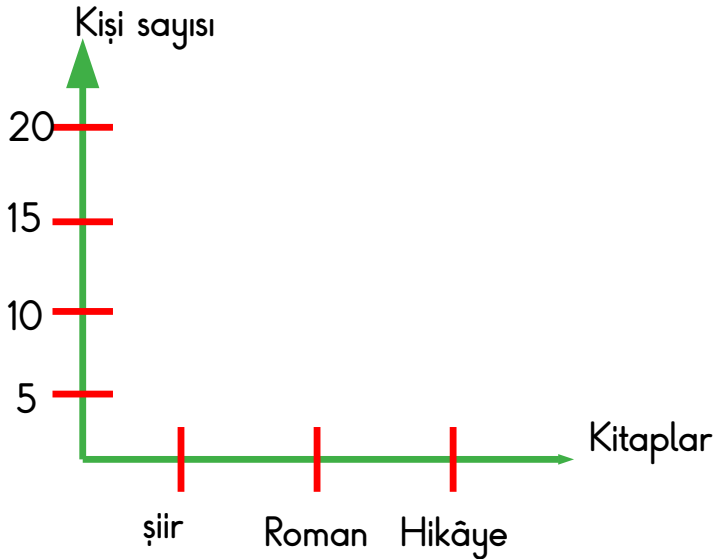
Bir kitaplıkta 10 şiir, 15 hikâye, 20 roman vardır.

Tablo: Kitaplar Çetele Tablosu

Kitaplar	Sayısı
şiir	
roman	
hikâye	

Tablo: Kitaplar Sıklık Tablosu

Kitaplar	Sayısı
roman	
hikâye	
şiir	



Aşağıda verilenlere göre çetele, sıklık ve grafik tablosunu oluşturunuz.

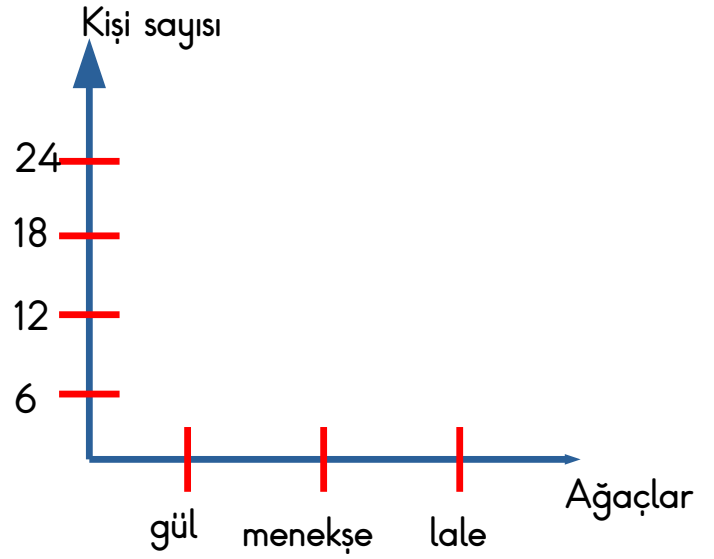
Bir bahçeye 6 limon , 12 elma ve 18 erik ağacı dikilmiştir.

Tablo: Ağaçlar Çetele Tablosu

Ağaçlar	Sayısı
limon	
elma	
erik	

Tablo: Ağaçlar Sıklık Tablosu

Ağaçlar	Sayısı
erik	
limon	
elma	





Adı:

Soyadı:

### 3.Sınıf 12. Hafta Ödevleri



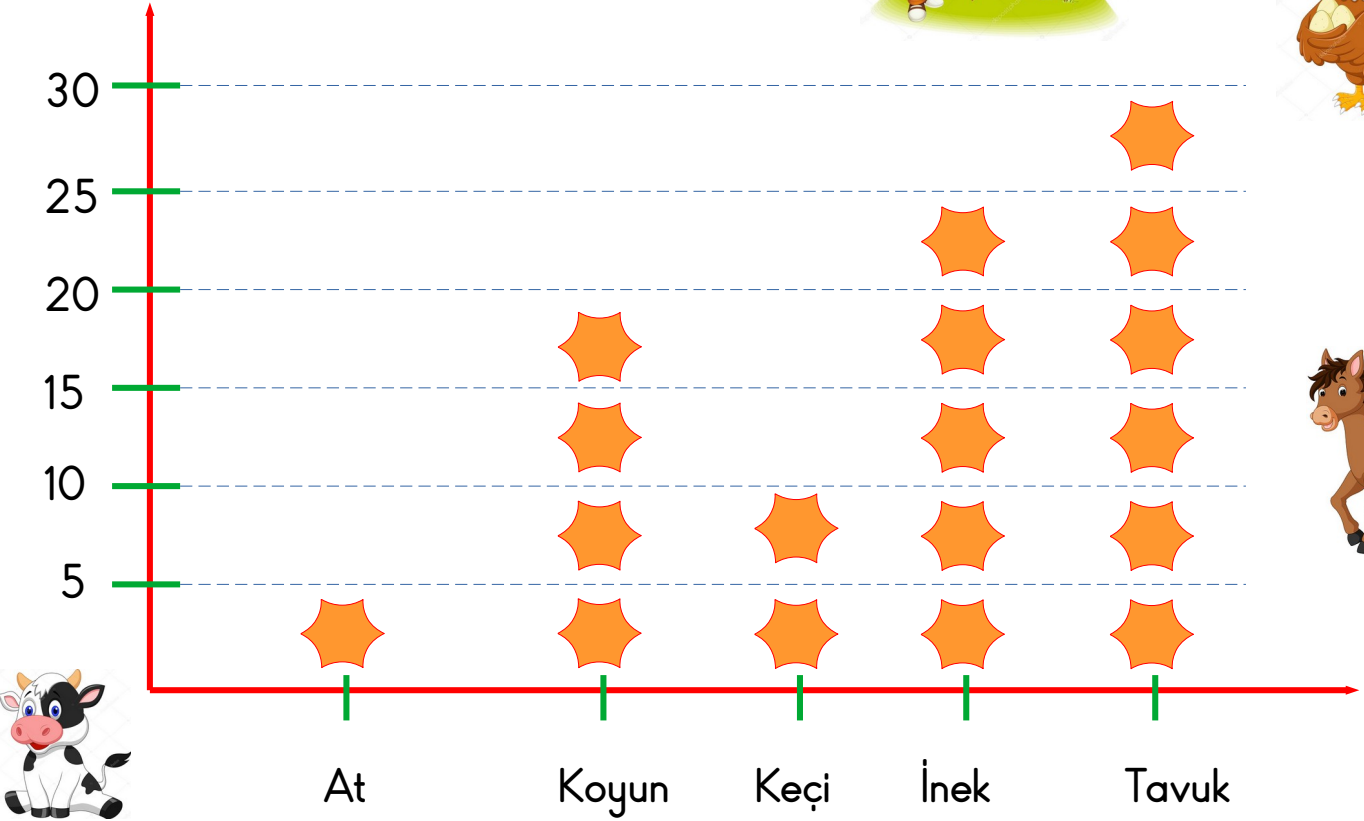
Matematik



Aşağıdaki soruları grafiğe göre yanıtlayınız.



Grafik: Bir Çiftlikteki Hayvanlar



1. Çiftlikteki en az ve en fazla hayvanın sayıları toplamı kaçtır?

2. Çiftlikteki toplam hayvan sayısı kaçtır?

3. Keçilerin sayısının tavukların sayısına eşit olması için kaç tavuk daha alınmalıdır?

4. Tavuk ve koyunların toplamı kaçtır?







Adı:  
Soyadı:

### 3.Sınıf 12. Hafta Ödevleri



Matematik



### Çarpmanın Kat Anlamı



Aşağıda boş bırakılan yerleri örneğe uygun olarak doldurunuz.



$$\begin{array}{r}
 1 \text{ kat} \rightarrow \\
 1 \text{ kat} \rightarrow \\
 1 \text{ kat} \rightarrow \\
 1 \text{ kat} \rightarrow \\
 + \\
 \hline
 4 \text{ kat}
 \end{array}$$


4 tane 2 = 8 eder.  
 4 kere 2 = 8 eder.  
 4 x 2 = 8 eder.

$$\begin{array}{r}
 1 \dots\dots \rightarrow \\
 \dots\dots \text{ kat} \rightarrow \\
 \dots\dots \rightarrow \\
 \dots\dots \rightarrow \\
 + \\
 \hline
 4 \text{ kat}
 \end{array}$$

4 tane ..... = 12 eder.  
 4 ..... 3 = ..... eder.  
 4 ..... 3 = 12 eder.

$$\begin{array}{r}
 1 \text{ kat} \rightarrow \\
 1 \text{ kat} \rightarrow \\
 1 \text{ kat} \rightarrow \\
 + \\
 \hline
 \dots\dots \text{ kat}
 \end{array}$$

..... tane 3 = .... eder.  
 ..... kere ..... = .... eder.  
 ..... 3 = ..... eder.





Adı:

Soyadı:

### 3.Sınıf 12. Hafta Ödevleri




Fen Bilimleri



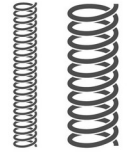

## Maddeyi Niteleyen Özellikler




Aşağıdaki maddelerden renkli olanların kutucuğunu kırmızıya, renksiz olan maddelerin kutucuğunu yeşile boyayınız.




Aşağıdaki maddelerden esnek olanların kutucuğunu kırmızıya, kırılğan olan maddelerin kutucuğunu yeşile boyayınız.



Aşağıdaki maddelerden kokulu olanların kutucuğunu kırmızıya, kokusuz olan maddelerin kutucuğunu yeşile boyayınız.



Aşağıdaki maddelerden sert olanların kutucuğunu kırmızıya, yumuşak olan maddelerin kutucuğunu yeşile boyayınız.





Adı:  
Soyadı:

### 3.Sınıf 12. Hafta Ödevleri



Fen Bilimleri



### Maddeyi Niteleyen Özellikler



Aşağıdaki maddelerden pürüzlü olanların kutucuğunu kırmızıya, pürüzsüz olan maddelerin kutucuğunu yeşile boyayınız.



Aşağıdaki maddeleri niteleyen 3 tane özellik yazınız.



.....  
.....  
.....



.....  
.....  
.....



Aşağıda verilen kelimeleri bulmacadan bularak boyayınız.

G	T	A	T	K	P	Y
P	L	Ş	E	I	Ü	U
Ü	P	S	Y	R	B	M
R	A	K	S	I	Y	U
Ü	R	O	M	L	N	Ş
Z	L	K	Ş	G	Y	A
L	A	U	Z	A	U	K
Ü	K	M	Ş	N	M	S
E	M	S	E	R	T	E
E	S	N	E	K	N	R





Adı:  
Soyadı:

### 3.Sınıf 12. Hafta Ödevleri



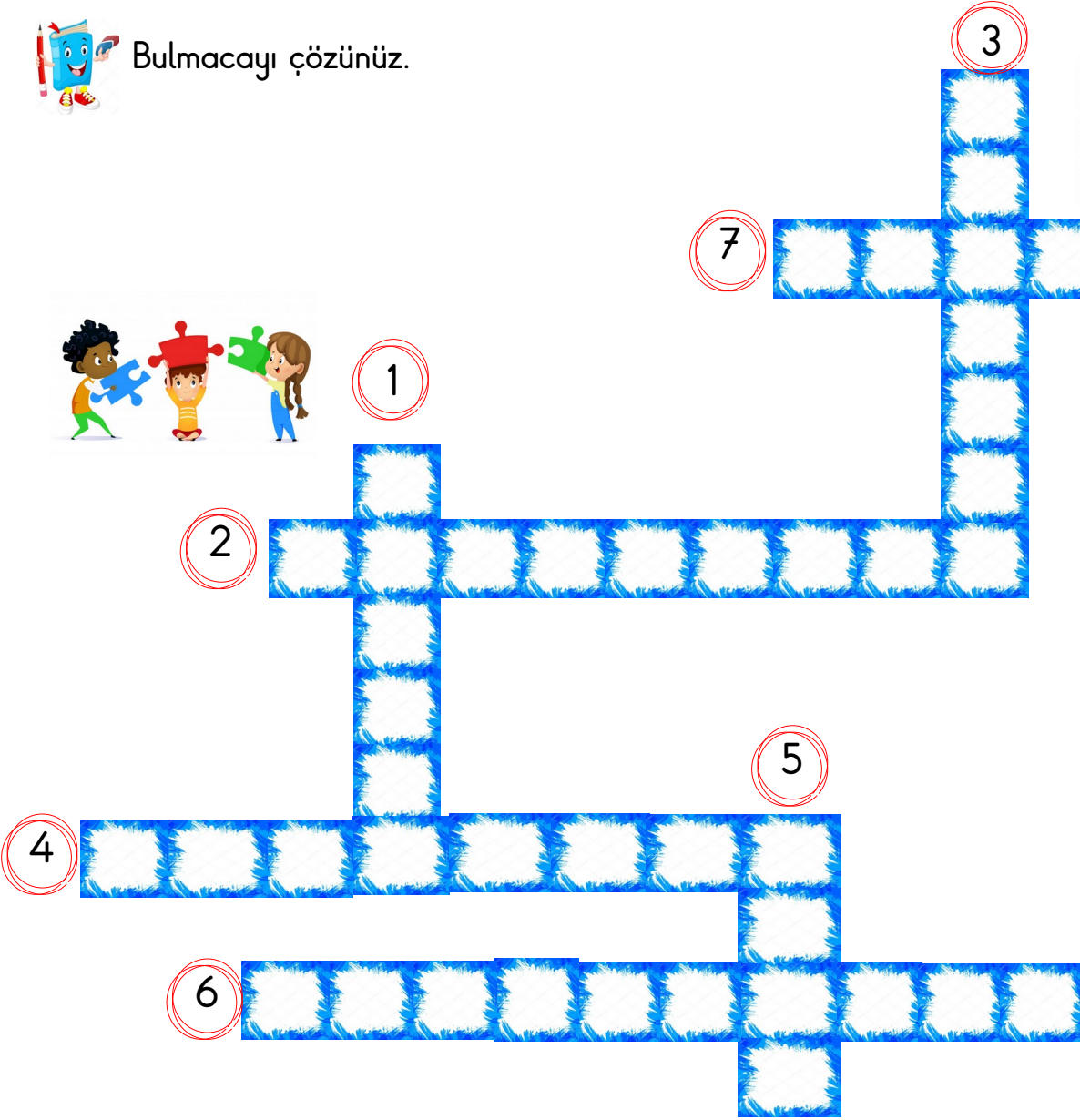
Fen Bilimleri



## Maddeyi Niteleyen Özellikler



Bulmacayı çözünüz.



- yumuşaklık
- parlaklık
- madde
- pürüzlü
- koku
- esneklik
- sertlik

1. Boşlukta yer kaplayan, beş duyu organımızla hissedebildiğimiz özelliklere sahip varlıklara denir.
2. Pürüzsüz bir maddeye gelen ışığın oluşturduğu etki.
3. Esneyip bükülmeyen çok sağlam olup, demir , altın gibi maddelerin özelliği.
4. Dışarıdan kuvvet uygulandığında şekli değişen, kuvvet ortadan kalkınca eski haline gelen maddelerin özelliği
5. Havaya karışan nesnelerin burnumuz tarafından algılanma özelliği
6. Az bir kuvvetle sıkışabilen, şekli kolayca değişebilen maddelerin özelliği
7. Yüzeyi çıkıntılı maddeler.



Adı:  
Soyadı:

### 3.Sınıf 12. Hafta Ödevleri



Hayat Bilgisi



#### Evdeki Kaynaklar



Aşağıda verilen davranışlardan hangilerini uyguluyorsunuz işaretleyiniz.

Evdeki kaynakları israf etmeden kullanırım.

Odadan çıkarken kimse yoksa lambaları kapatırım.

Suyu yeteri kadar açar ve kullanırım.

Kışın pencereleri açık tutarım.

Dişlerimi fırçalarken suyu açık bırakırım.

Giysilerim eskimeden yenisini isterim.



Evde en çok hangi teknolojik aletleri kullanıyorsunuz. Bunların hayatınıza olan katkıları nelerdir? Yazınız.

.....  
.....  
.....  
.....  
.....  
.....



Aşağıda bir aileye ait mutfak masrafları gösterilmiştir. Tabloyu inceleyerek soruları cevaplayınız.

Ürünler	Haftalık Alınan Miktar	Haftalık Artan Miktar
ekmek	9	4 adet
sebze	7 kilogram	3 kilogram
meyve	5 kilogram	2 kilogram
Et	2 kilogram	1 kilogram

1.Tabloya göre bu aile kaynakları verimli bir şekilde kullanmakta mıdır? Neden?

.....  
.....  
.....  
.....  
.....

2. Bu aile kaynaklarını nasıl daha verimli şekilde kullanır? Önerilerinizi yazınız.

.....  
.....  
.....  
.....  
.....