




Adı:

Soyadı:

### 3.Sınıf 13. Hafta Ödevleri



Türkçe



### Andre ve Aslan

Bir zamanlar zalim bir adamın Andre adında bir kölesi vardı. Andre, bir fırsatını bularak adamın yanından kaçtı, ormana sığındı. Ne yapacağını bilemez bir halde ağaçlar arasında dolaşırken, önüne bir aslan çıktı. Önce, hemen kaçmayı düşündüyse de, aslanın ağılıyormuş gibi ses çıkardığını, inlediğini gördü.

Andre, hayvanın yanına yaklaşınca, aslan pençesini uzattı. Hayvanın pençesi kan içindeydi. Büyük bir diken etine girmiş, yarmıştı. Andre, hemen diken çıkardı ve gömleğinden yırttığı bir parça bezle de hayvanın yarasını sardı. Aslan, Andre'ye, ne kadar minnettar kaldığını göstermek istercesine sarıldı ve bir köpek gibi elini yaladı. Daha sonra da, Andre'yi kendi inine götürdü. Yarası kısa zamanda iyileşen aslan, her gün ormana çıkıyor, avlanıyor, efendisi Andre'ye yiyecek getiriyordu.

Fakat bir gün beraberce avlandıkları bir sırada, avcılar, ikisini de yakalayıp bir sirke götürdüler. Aslana, bir süre hiç yiyecek verilmeyecek ve ondan sonra da Andre, bu aç hayvanın önüne bırakılacaktı.

Andre'nin, aslanın önüne çıkarılacağı gün, bütün şehir halkı meydanı doldurmuş; imparator ve sarayın ileri gelenleri de koltuklarında yerlerini almışlardı. Önce, kendisine günlerdir yiyecek verilmeyen aslan getirildi. Kafesten çıkarılır çıkarılmaz meydanı dört dönmeye başladı, parçalayacak birini aradı. Ardından, Andre de getirildi ve imparatorun önünde zincirleri çözüldü. Aslan, kükreyerek kurbanın üzerine yürüdü.

Fakat Andre'nin önüne gelir gelmez, onu tanıdı ve herkesin köleyi parçalayacağını sandığı bir sırada, kucaklarcasına Andre'ye sarıldı. İmparator böyle bir manzarayı ilk defa görmüştü. Andre'nin huzuruna getirilmesini emretti ve ona kim olduğunu sordu.


Andre de, başından geçenleri imparatora anlattı. Onun hikâyesi, imparator ve yanındakileri derinden etkiledi. İmparator, Andre'yi affederek serbest bıraktı, aslanın da, kendi hür hayatını sürdürmesi için yeniden ormana bırakılmasını emretti.



Adı:  
Soyadı:

### 3.Sınıf 13. Hafta Ödevleri

Türkçe



Aşağıdaki soruları okuduğunuz metne göre yanıtlayınız.

1. Aslan neden ağlıyormuş?

---

---

2. Andre hayvanın yarasına nasıl bir müdahalede bulundu?

---

---

3. Aslan, Andre'ye minnettarlığını nasıl gösterdi?

---

---

4. Aslan, sirkte Andre ile karşılaşınca ne yaptı?

---


---

5. İmparator olanları öğrendikten sonra ne yaptı?

---


---

Aşağıdaki kelimelerin anlamlarını sözlükten bularak karşlarına yazınız.



---

---



---

---



---

---



---

---



---


---



Adı:  
Soyadı:

### 3.Sınıf 13. Hafta Ödevleri

Türkçe



## Eş Sesli Şözcükler

Yazılışları ve okunuşları aynı, anlamları farklı olan şözcüklere eş sesli (sesteş) şözcükler denir.



Aşağıdaki eş sesli şözcüklerin verilen anlamlarına uygun cümleler yazınız.

bot

Küçük gemi:

Ayakkabı türü:

dil

Tat alma organımız:

Lisan:

yaş

Islak:

Doğumdan itibaren geçen yıl:

kara

Yeryüzü parçası:

Renk:

el

Bir organ:

Yabancı:



Adı:

Soyadı:



Türkçe

## Eş Sesli Şözcükler



Aşağıdaki cümle çiftlerinde geçen eş sesli şözcükleri altlarına yazınız.



Aşağıda verilen kelimelerden eş seslisi olanları işaretleyiniz.




Ali, yüzmeye çok seviyordu.




Ayşe, sınavdan yüz aldı.

.....




Gül koklamaya bayılıyorum.



Emre bu işe çok güldü.

.....




Atımızın nalı kırıldı.



Nazlı, kağıtları çöpe attı.

.....



Yeni yatımız çok güzeldi.




Sabahtan akşama kadar yattı.

.....



dolu



ot




semt



bağ



düş



süt




dal



sal



defter




dil



Adı:  
Soyadı:

### 3.Sınıf 13. Hafta Ödevleri

Türkçe



## Cümle Bilgisi



Aşağıda verilen ifadeler cümle ise '✓' değilse 'X' işareti koyunuz.

Annemle babam markete



Gidiyorum



Ben de sizinle geleceğim



Sen ne yaptığını



Zeynep, canlı dersi



Bütün notlarım çok iyi



Aşağıda verilen cümleler hangi sözcükle tamamlanmalıdır işaretleyiniz.

Yarın arkadaşlarımla parka.....

gideceğiz.



gidiyoruz.



Annem bütün evi.....

gezdiler.



temizledi.



Dersten sonra ödevlerimi.....

yaptım.



oynadık.



Zürafaların uzun boyunları.....

vardır.



çoktur.



Yolcular otobüsten.....

kırlıdı.



indiler.






Adı: \_\_\_\_\_  
Soyadı: \_\_\_\_\_

### 3.Sınıf 13. Hafta Ödevleri



Matematik



## Çarpmanın Kat Anlamı



Aşağıda boş bırakılan yerleri örneğe uygun olarak doldurunuz.



5 katı →

	1 kat →
	1 kat →
	1 kat →
	1 kat →
	1 kat →
+	
	5 kat →

5 tane 3 = ..... eder.  
5 kere 3 = 15 eder.  
5 x 3 = ..... eder.

4 katı →


	1 ..... →
	..... kat →
	..... →
	..... →
+	
	4 kat →

4 tane ..... = 16 eder.  
4 ..... 4 = ..... eder.  
4 ..... 4 = 16 eder.

3 katı →

	1 kat →
	1 kat →
	1 kat →
+	
	..... kat →

..... tane 5 = .... eder.  
..... kere ..... = .... eder.  
..... 5 = ..... eder.







Adı:

Soyadı:



Matematik



Aşağıdaki işlemleri örneğe uygun olarak yapınız.



3'ün 4 katı kaçır?

$$3 + 3 + 3 + 3 = 12$$

$$4 \times 3 = 12$$



3'ün 5 katı kaçır?

$$\dots + \dots + \dots + \dots + \dots = \dots$$

$$\dots \times \dots = \dots$$



6'nın 4 katı kaçır?

$$\dots + \dots + \dots + \dots = \dots$$

$$\dots \times \dots = \dots$$



4'ün 5 katı kaçır?

$$\dots + \dots + \dots + \dots + \dots = \dots$$

$$\dots \times \dots = \dots$$



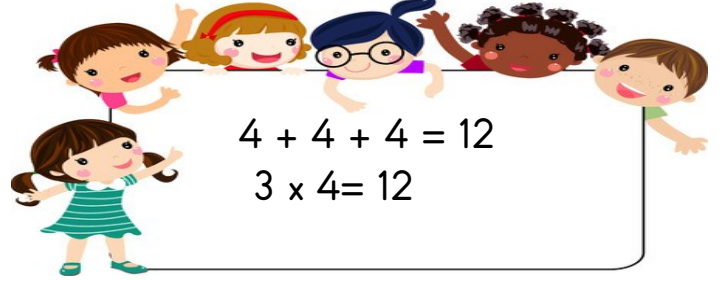
7'nin 3 katı kaçır?

$$\dots + \dots + \dots = \dots$$

$$\dots \times \dots = \dots$$




Aşağıdaki ardışık toplama işlemlerini çarpma işlemi şeklinde yazınız.



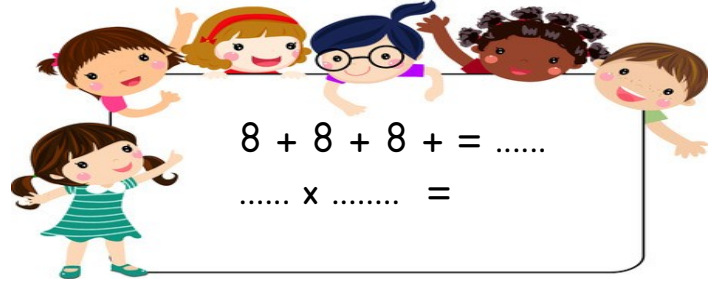
$$4 + 4 + 4 = 12$$

$$3 \times 4 = 12$$



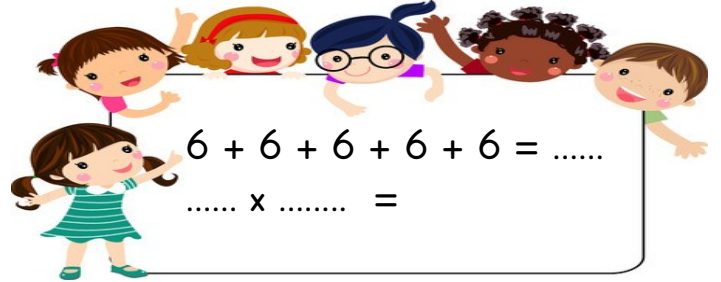
$$5 + 5 + 5 + 5 = \dots$$

$$\dots \times \dots =$$



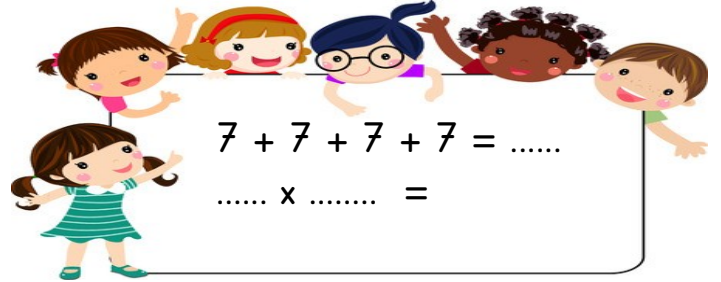
$$8 + 8 + 8 + = \dots$$

$$\dots \times \dots =$$




$$6 + 6 + 6 + 6 + 6 = \dots$$

$$\dots \times \dots =$$



$$7 + 7 + 7 + 7 = \dots$$

$$\dots \times \dots =$$



Adı:

Soyadı:

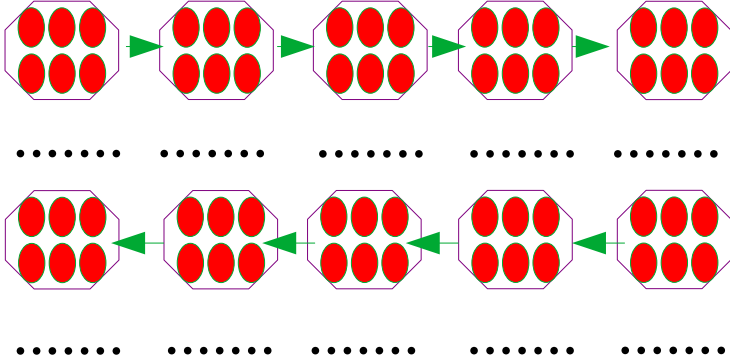


Matematik

## 6 ile Çarpma



Aşağıdaki boncukları altışar altışar sayarak yazınız.



Aşağıdaki toplama işlemlerini örnekteki gibi çarpma sembolü ile gösterip sonuçlarını yazınız.

6 = \_\_\_\_\_ →  $1 \times 6 = 6$

6 + 6 = \_\_\_\_\_ → .....x..... = .....

6 + 6 + 6 = \_\_\_\_\_ → .....x..... = .....

6 + 6 + 6 + 6 = \_\_\_\_\_ →  $4 \times 6 = \dots$

6 + 6 + 6 + 6 + 6 = \_\_\_\_\_ → .....x..... = .....

6 + 6 + 6 + 6 + 6 + 6 = \_\_\_\_\_ → .....x..... = .....

6 + 6 + 6 + 6 + 6 + 6 + 6 = \_\_\_\_\_ → .....x..... = .....

6 + 6 + 6 + 6 + 6 + 6 + 6 + 6 = \_\_\_\_\_ → .....x..... = .....

6 + 6 + 6 + 6 + 6 + 6 + 6 + 6 + 6 = \_\_\_\_\_ → .....x..... = .....

6 + 6 + 6 + 6 + 6 + 6 + 6 + 6 + 6 + 6 = \_\_\_\_\_ → .....x..... = 60



Aşağıdaki çarpım tablosuna gelmesi gereken sayıları yazınız.



$1 \times 6 = \dots\dots\dots$

$2 \times 6 = \dots\dots\dots$

$3 \times 6 = \dots\dots\dots$

$4 \times 6 = \dots\dots\dots$

$5 \times 6 = \dots\dots\dots$

$6 \times 6 = \dots\dots\dots$

$7 \times 6 = \dots\dots\dots$

$8 \times 6 = \dots\dots\dots$

$9 \times 6 = \dots\dots\dots$

$10 \times 6 = \dots\dots\dots$



Aşağıdaki boşlukları doldurunuz.

6'nın 4 katı .....'tür.

6'nın 8 katı .....'dir.

6'nın 9 katı .....'tür.

6'nın 5 katı .....'dur.

6'nın 1 katı .....'dir.

6'nın 6 katı .....'dir.

6'nın 2 katı .....'dir.


6'nın 3 katı .....'dir.

6'nın 10 katı .....'dir.

6'nın 7 katı .....'dir.







Adı:

Soyadı:




Matematik

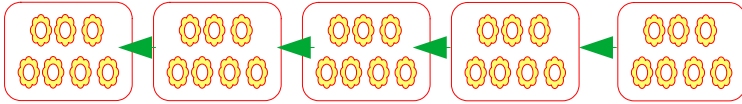
## 7 ile Çarpma



Aşağıdaki çiçekleri yedişer yedişer sayarak yazınız.



.....



.....



Aşağıdaki toplama işlemlerini örnekteki gibi çarpma sembolü ile gösterip sonuçlarını yazınız.

$$7 = \longrightarrow 1 \times 7 = 7$$

$$7 + 7 = \longrightarrow \dots \times \dots = \dots$$

$$7 + 7 + 7 = \longrightarrow \dots \times \dots = \dots$$

$$7 + 7 + 7 + 7 = \longrightarrow 4 \times 7 = \dots$$

$$7 + 7 + 7 + 7 + 7 = \longrightarrow \dots \times \dots = \dots$$

$$7 + 7 + 7 + 7 + 7 + 7 = \longrightarrow \dots \times \dots = \dots$$

$$7 + 7 + 7 + 7 + 7 + 7 + 7 = \longrightarrow \dots \times \dots = \dots$$

$$7 + 7 + 7 + 7 + 7 + 7 + 7 + 7 = \longrightarrow \dots \times \dots = \dots$$

$$7 + 7 + 7 + 7 + 7 + 7 + 7 + 7 + 7 = \longrightarrow \dots \times \dots = \dots$$

$$7 + 7 + 7 + 7 + 7 + 7 + 7 + 7 + 7 + 7 = \longrightarrow \dots \times \dots = 70$$



Aşağıdaki çarpım tablosuna gelmesi gereken sayıları yazınız.



$$1 \times 7 = \dots$$

$$2 \times 7 = \dots$$

$$3 \times 7 = \dots$$

$$4 \times 7 = \dots$$

$$5 \times 7 = \dots$$

$$6 \times 7 = \dots$$

$$7 \times 7 = \dots$$

$$8 \times 7 = \dots$$

$$9 \times 7 = \dots$$

$$10 \times 7 = \dots$$



Aşağıdaki boşlukları doldurunuz.

7'nin 4 katı .....'dir.

7'nin 8 katı .....'dir

7'nin 9 katı .....'tür.

7'nin 5 katı .....'dir.

7'nin 1 katı .....'dir.


7'nin 6 katı .....'dir.

7'nin 2 katı .....'dür.

7'nin 3 katı .....'dir.

7'nin 10 katı .....'dir.

7'nin 7 katı .....'dur.





Adı:

Soyadı:

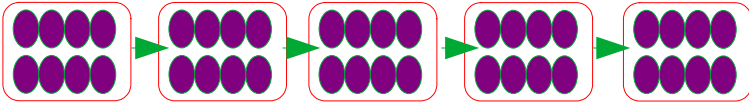


Matematik


## 8 ile Çarpma



Aşağıdaki boncukları sekizer sekizer sayarak yazınız.



.....



.....



Aşağıdaki toplama işlemlerini örnekteki gibi çarpma sembolü ile gösterip sonuçlarını yazınız.

$$8 = \longrightarrow 1 \times 8 = 8$$

$$8 + 8 = \longrightarrow \dots \times \dots = \dots$$

$$8 + 8 + 8 = \longrightarrow \dots \times \dots = \dots$$

$$8 + 8 + 8 + 8 = \longrightarrow 4 \times 8 = \dots$$

$$8 + 8 + 8 + 8 + 8 = \longrightarrow \dots \times \dots = \dots$$


$$8 + 8 + 8 + 8 + 8 + 8 = \longrightarrow \dots \times \dots = \dots$$

$$8 + 8 + 8 + 8 + 8 + 8 + 8 = \longrightarrow \dots \times \dots = \dots$$

$$8 + 8 + 8 + 8 + 8 + 8 + 8 + 8 = \longrightarrow \dots \times \dots = \dots$$

$$8 + 8 + 8 + 8 + 8 + 8 + 8 + 8 + 8 = \longrightarrow \dots \times \dots = \dots$$

$$8 + 8 + 8 + 8 + 8 + 8 + 8 + 8 + 8 + 8 = \longrightarrow \dots \times \dots = 80$$



Aşağıdaki çarpım tablosuna gelmesi gereken sayıları yazınız.



$$1 \times 8 = \dots$$

$$2 \times 8 = \dots$$

$$3 \times 8 = \dots$$

$$4 \times 8 = \dots$$

$$5 \times 8 = \dots$$

$$6 \times 8 = \dots$$

$$7 \times 8 = \dots$$

$$8 \times 8 = \dots$$

$$9 \times 8 = \dots$$

$$10 \times 8 = \dots$$



Aşağıdaki boşlukları doldurunuz.

8'in 4 katı .....'dir.

8'in 8 katı .....'tür

8'in 9 katı .....'dir.

8'in 5 katı .....'dir.

8'in 1 katı .....'dir.

8'in 6 katı .....'dir.


8'in 2 katı .....'dir.

8'in 3 katı .....'dür.

8'in 10 katı .....'dir.

8'in 7 katı .....'dir.





Adı:

Soyadı:

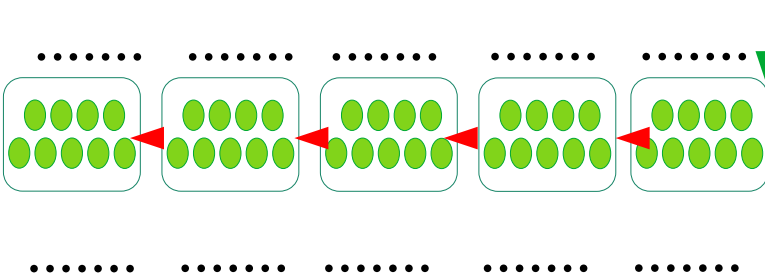
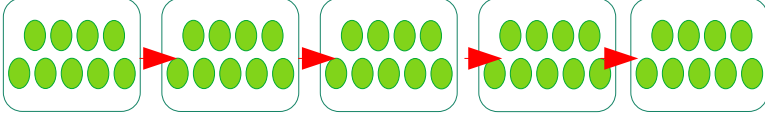


Matematik

## 9 ile Çarpma



Aşağıdaki boncukları dokuzar dokuzar sayarak yazınız.



Aşağıdaki toplama işlemlerini örnekteki gibi çarpma sembolü ile gösterip sonuçlarını yazınız.

$$9 = \longrightarrow 1 \times 9 = 9$$

$$9 + 9 = \longrightarrow \dots \times \dots = \dots$$

$$9 + 9 + 9 = \longrightarrow \dots \times \dots = \dots$$

$$9 + 9 + 9 + 9 = \longrightarrow 4 \times 9 = \dots$$

$$9 + 9 + 9 + 9 + 9 = \longrightarrow \dots \times \dots = \dots$$

$$9 + 9 + 9 + 9 + 9 + 9 = \longrightarrow \dots \times \dots = \dots$$

$$9 + 9 + 9 + 9 + 9 + 9 + 9 = \longrightarrow \dots \times \dots = \dots$$

$$9 + 9 + 9 + 9 + 9 + 9 + 9 + 9 = \longrightarrow \dots \times \dots = \dots$$

$$9 + 9 + 9 + 9 + 9 + 9 + 9 + 9 + 9 = \longrightarrow \dots \times \dots = \dots$$

$$9 + 9 + 9 + 9 + 9 + 9 + 9 + 9 + 9 + 9 = \longrightarrow \dots \times \dots = \dots$$

$$9 + 9 + 9 + 9 + 9 + 9 + 9 + 9 + 9 + 9 + 9 = \longrightarrow \dots \times \dots = 80$$



Aşağıdaki çarpım tablosuna gelmesi gereken sayıları yazınız.



$$1 \times 9 = \dots$$

$$2 \times 9 = \dots$$

$$3 \times 9 = \dots$$

$$4 \times 9 = \dots$$

$$5 \times 9 = \dots$$

$$6 \times 9 = \dots$$

$$7 \times 9 = \dots$$

$$8 \times 9 = \dots$$

$$9 \times 9 = \dots$$

$$10 \times 9 = \dots$$



Aşağıdaki boşlukları doldurunuz.

9'un 4 katı .....'dir.

9'un 8 katı .....'dir.

9'un 9 katı .....'dir.

9'un 5 katı .....'dir.

9'un 1 katı .....'dur.

9'un 6 katı .....'dür.

9'un 2 katı .....'dir.

9'un 3 katı .....'dir.

9'un 10 katı .....'dir.

9'un 7 katı .....'dür.






Adı:

Soyadı:

### 3.Sınıf 13. Hafta Ödevleri



Matematik



## Çarpma İşlemleri



Aşağıdaki çarpma işlemlerini yapınız.

$$\begin{array}{r} 3 \\ \times 7 \\ \hline \end{array}$$

$$\begin{array}{r} 4 \\ \times 6 \\ \hline \end{array}$$

$$\begin{array}{r} 8 \\ \times 7 \\ \hline \end{array}$$

$$\begin{array}{r} 8 \\ \times 8 \\ \hline \end{array}$$

$$\begin{array}{r} 5 \\ \times 6 \\ \hline \end{array}$$

$$\begin{array}{r} 9 \\ \times 8 \\ \hline \end{array}$$

$$\begin{array}{r} 7 \\ \times 7 \\ \hline \end{array}$$

$$\begin{array}{r} 6 \\ \times 7 \\ \hline \end{array}$$

$$\begin{array}{r} 4 \\ \times 9 \\ \hline \end{array}$$

$$\begin{array}{r} 7 \\ \times 9 \\ \hline \end{array}$$

$$\begin{array}{r} 8 \\ \times 3 \\ \hline \end{array}$$

$$\begin{array}{r} 9 \\ \times 6 \\ \hline \end{array}$$

$$\begin{array}{r} 13 \\ \times 7 \\ \hline \end{array}$$

$$\begin{array}{r} 78 \\ \times 6 \\ \hline \end{array}$$

$$\begin{array}{r} 24 \\ \times 9 \\ \hline \end{array}$$

$$\begin{array}{r} 18 \\ \times 8 \\ \hline \end{array}$$

$$\begin{array}{r} 34 \\ \times 6 \\ \hline \end{array}$$

$$\begin{array}{r} 8 \\ \times 5 \\ \hline \end{array}$$

$$\begin{array}{r} 10 \\ \times 7 \\ \hline \end{array}$$

$$\begin{array}{r} 19 \\ \times 3 \\ \hline \end{array}$$

$3 + 4 = 12$

$9 - 5 = 3$



### 3.Sınıf 13. Hafta Ödevleri

Adı:

Soyadı:











Fen Bilimleri

## Maddenin Özellikleri



Aşağıdaki maddeleri niteleyen temel özellikleri işaretleyiniz. Birden fazla işaretleme yapabilirsiniz.

Maddeler	Sağlam	Sert	Kırılgan	Yumuşak	Esnek	Pürüzlü
						
						
						
						
						
						
						
						






Adı:  
Soyadı:

### 3.Sınıf 13. Hafta Ödevleri




Fen Bilimleri



## Tehlikeli Maddeler

Aşağıda verilen maddelerden tehlike oluşturabilecek olanları işaretleyiniz.



Aşağıdaki ifadelerden doğru olanların başına 'D', yanlış olanların başına ise 'Y' yazınız.



Temizlik maddeleri, sadece temizlik amacıyla kullanılmalıdır.



İçinde ne olduğunu bilmediğimiz sıvıların ne olduğuna koklayarak bakabiliriz.



İçeriğini bilmediğimiz maddelere dokunmak tehlikelidir.



Bütün maddelerin kokusu aynıdır o yüzden kokularına bakabiliriz.



Ellerimizi bilmediğimiz maddelerle yıkamamalıyız.






Adı:  
Soyadı:

### 3.Sınıf 13. Hafta Ödevleri



Hayat Bilgisi



## Planlı Yaşam

Aşağıdaki tabloda Efe'nin gün içinde yaptıkları karışık olarak verilmiştir. Verilenleri günlük plana uygun olarak plan tablosuna yazınız.

Yapılacak İşler
Oyun
Kitap okuma
Uyanma-Okula hazırlanma
Akşam yemeği
Ders tekrarı-Ödev
Ailemizle zaman geçirme
Okula gidiş
Okuldan dönüş
Uyku saati
Okulda geçen zaman
Dinlenme

GÜNLÜK PLAN	
07.00-8.00	
8.00-8.30	
8.30-14.30	
14.30-15.00	
15.00-16.00	
16.00-17.30	
17.30-18.30	
18.30-19.30	
20.00-21.00	
21.00-21.30	
21.30-22.00	

Siz de aşağıdaki tabloya kendinize uygun haftasonu için günlük plan tablosu hazırlayınız.

GÜNLÜK PLAN	