



1

Aşağıdaki cümlelerin hangisinde "mi" ekinin kullanımıyla ilgili yanlışlık yapılmıştır?



- A. Ahmet beslenmesini yedi mi?
B. Bu sorunun cevabını biliyormusun?
C. Okulda maskeni takıyor musun?

2



Eş Görevli Sözcükleri Ayıran
Noktalama İşareti Gemisi

Yukarıdaki görsele göre gemiye aşağıdakilerden hangisi binebilir?

- A. Ünlem B. Virgöl C. İki nokta

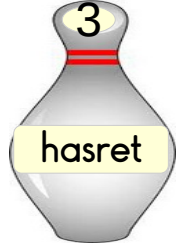
3



Yandaki görselin anlamı aşağıdakilerden hangisidir?

- A. Görme engelli işareti
B. Kulaklık takmak yasaktır işareti
C. İşitme engelli işareti

4



Sezai bowling topunda yazılan kelimenin eş anlamlısının olduğu labutu devirmek istiyor.

Buna göre Sezai kaç numaralı labutu devirmelidir?

- A. 2 B. 3 C. 1

5

Aşağıdaki cümlelerin hangisinde yazım yanlışlığı yapılmıştır?

- A. Dün sinemaya gittiniz mi?
B. Geziye gelecek mi siziz?
C. Elma ister misin?



1

Bir pasta 15 eş parçaya ayrılıyor. 7 parçası misafirlere ikram ediliyor. Kalan pastanın kesir olarak gösterilmiş hâli hangisidir?

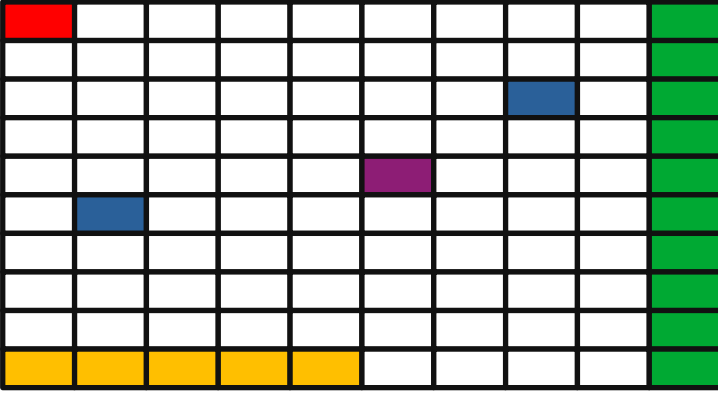


A. $\frac{7}{15}$

B. $\frac{8}{15}$

C. $\frac{15}{8}$

2

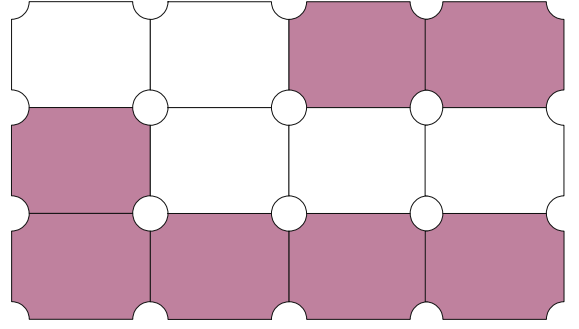


Yukarıdaki yüzlük bloğa göre hangi renkteki

bloklar $\frac{1}{100}$ kesrini göstermektedir?

- A. yeşil - mavi
B. sarı - mor
C. mor - kırmızı

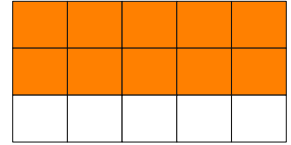
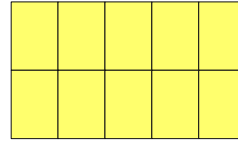
3



Yukarıdaki şemanın boyalı kısımlarını ifade eden kesrin okunuşu aşağıdakilerden hangisidir?

- A. on ikide beş
B. yedide on iki
C. on ikide yedi


4



Yukarıda verilen şekillerden kaç tanesinin paydası 10'dur?

- A. 2
B. 3
C. 4

5



Yandaki kabın boş kısmını ifade eden kesir için aşağıdaki bilgilerden hangisi doğrudur?

- A. Boş kısmın paydası 2'dir.
B. Paydası, payında büyüktür.
C. Boş kısmın payı 5'tir.



1



Uçağın sesini daha az duyabilmem için kaç numaralı noktada durmam gerekli?



A. 1

B. 2

C. 3

2

Sedat



Efe



Melek



Davulun sesini yukarıdaki öğrencilerden hangisi daha çok duyar?

A. Efe

B. Sedat

C. Melek

3

Aşağıdaki seslerden hangisini duymakta zorlanırsınız?

- A. Çalışan arabanın sesini
- B. Kedinin miyavlama sesini
- C. Karıncanın yürüme sesini

4

Aşağıdaki araçlardan hangisinin ses şiddeti diğerlerinden daha düşüktür?

A.



B.



C.



5

- I. Ses kaynağına yaklaştıkça sesin şiddeti azalır.
- II. Televizyonun sesini açtığımızda sesin şiddeti artar.
- III. Hoparlör, sesin şiddetini artırır.

Yukarıda verilen ifadelerden hangileri doğrudur?

- A. I - II - III
- B. II - III
- C. I - II



1

'Acele işe şeytan karıştır.' atasözü ile trafikte hangi ihlâlden bahsedilmiştir?



- A. Aşırı hız yapmak
- B. Caddeden yürümek
- C. Bisiklete kask takmadan binmek

2



Üst geçit çok uzakta en iyisi yoldan hızlıca karşıya geçeyim.



Elif'in dediğine göre Elif hangi yanlış davranışı yapmaktadır?

- A. Akıllıca davranmıştır.
- B. Sabırsız ve düşüncesiz davranmıştır.
- C. Kendini yormamıştır.

3

Aşağıdakilerden hangisinde yayaların hareket etmesi tehlikelidir?

- A. Kaldırımlar
- B. Alt geçitler
- C. Otoyollar

4



Karanlık bir yolda yürümemiz gerekirse aşağıdakilerden hangisini yapmamız doğru olur?

- A. Koşarak yolu bitirmeliyiz.
- B. Görünmek için açık renk veya fosforlu kıyafetler giymeliyiz.
- C. Yolun ortasından yürüyerek gitmeliyiz.

5



Yukarıdaki görselde çocuk hangi trafik kuralına uyumamıştır?

- A. Arabaların geçtiği yollarda top oynamıştır.
- B. Emniyet kemerini takmadan arabaya binmiştir.
- C. Kırmızı ışıkta karşıya geçmiştir.