



1



Yazım yanlış bulunan eşek  
Karakaçan'dır.


Buna göre hangi eşek  
Karakaçan'dır?

A.




Ankara'dan sonra  
İzmir'e gideceğiz.

B.



Erzurum'a tirenle  
gideceğiz.

C.



Arkadaşım Boncuk  
yanıma gelecek.

2

B



Yukarıda şifrelenmiş olarak verilen kelimenin  
zıt anlamlısı hangisidir?

A. eski

B. taze

C. çürük

3

Yaşasın ( ) pikniğe gideceğiz ( )

Yukarıdaki cümlede parantez içlerine sırası ile  
hangi noktalama işaretleri konulmalıdır?

A. ünlem - nokta

B. virgül - nokta

C. virgül - ünlem

4



Metnin konusunu bulmak için metne  
aşağıdaki sorulardan hangisini sorarız?

A. Metin neden söz ediyor?

B. Metin ne zaman yazılmış?

C. Metni kim yazmış?

5

1

Mahallemizdeki ormanlık alana geldik.

2

Piknikte çok eğlendik.

3

Piknik için hazırladıklarımızı arabaya  
yerleştirdik.

4

Ailecek pikniğe gitmeye karar verdik.

Yukarıdaki cümleler olayların oluş sırasına  
göre sıralaması hangisidir?


A. 4 - 3 - 1 - 2

B. 4 - 2 - 3 - 1

C. 4 - 1 - 2 - 3



1



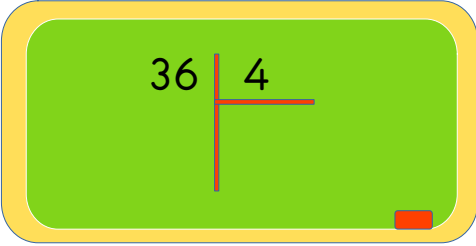
Yandaki çiçeklerin  
3 katının 6 fazlası  
kaç düzineye  
eşittir?

A. 3

B. 24

C. 2

2



Yukarıdaki bölme işlemi ile ilgili verilenlerden  
hangisi yanlıştır?

A. Bölüm 6'dır.

B. Bölünen sayı 36'dır.

C. Bölüm, bölen sayıdan büyüktür.

3

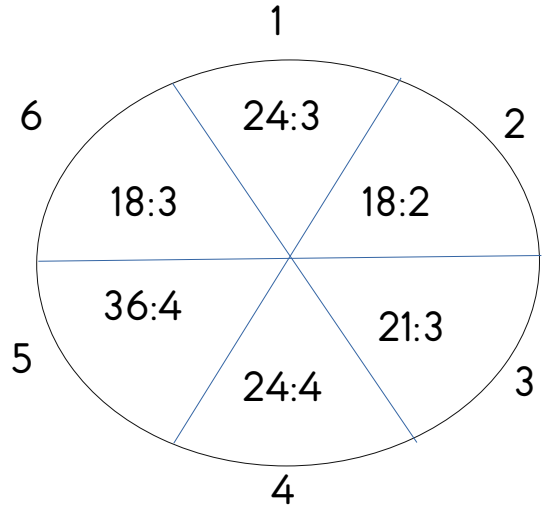
Aşağıdaki bölme işlemlerinden hangisinin  
sonucu en büyüktür?

A.  $28 \overline{) 4}$

B.  $40 \overline{) 5}$

C.  $30 \overline{) 3}$

4



Yavuz, çarkta sonucu 6 olanları  
boyayacaktır. Buna göre kaç numaralı  
yerleri boyamalıdır?

A. 1 - 4

B. 6 - 4

C. 5 - 2

5



35 litre süt 5 tane aynı  
büyüklükteki bidona hiç

artmayacak şekilde dolduruluyor.

Bu bidonların her birinde kaç litre  
süt olur?

A. 5

B. 30

C. 7



1



Atatürk Mahalle  
Mekteb'inden sonra  
hangi okula gitmiştir?

- A. Selanik İlkokulu
- B. Şemsi Efendi İlkokulu
- C. Ali Rıza Efendi İlkokulu

2

Atatürk ile ilgili verilen bilgilerden hangisi yanlıştır?

- A. Doğduğu Yer: Selanik
- B. Ölüm Tarihi: Bin Dokuz Yüz Otuz Sekiz
- C. Öldüğü Yer: Ankara

3

Aşağıdakilerden hangisi Atatürk'ün ailesinden biri değildir?

- A. Zübeyde Hanım
- B. Ali Rıza Efendi
- C. Mehmet Akif Ersoy

4

Okullarda Atatürk Haftası hangi tarihler arasında kutlanır?

- A. 10- 16 Kasım
- B. 18 - 23 Nisan
- C. 16 - 19 Mayıs

5

Atatürk'e Mustafa ismini kim vermiştir?

- A. Matematik öğretmeni
- B. Ailesi
- C. Türk Halkı