



1



Ağaç yaş iken eğilir.

Öğretmenin söylediği cümlede hangi kelimenin başka bir anlamı daha vardır?

A. yaş

B. ağaç

C. iken

2



Şiir yarışmasına katıldım.

Yiğit'in cümlesi anlamına göre nasıl cümledir?

A. soru cümlesi

B. olumlu cümle

C. olumsuz cümle

3

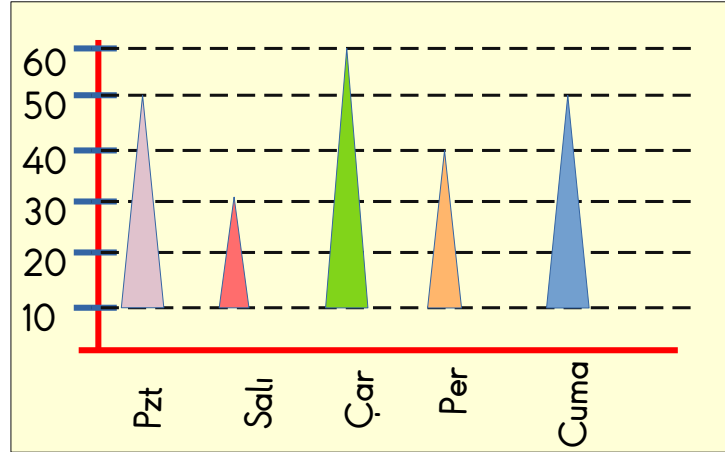
Aşağıdaki cümlelerin hangisinde tırnak işareti yanlış kullanılmıştır?

A. 'Otuz Beş Yaş' şiirini bayılarak okudum.

B. Atatürk 'Eğer bir gün benim sözlerim bilimle ters düşerse bilimi seçin.' demiştir.

C. Ahmet 'mağaza açılışına katılamayacağını söyledi.'

Gül'ün Hafta İçi Okuduğu Kitap Sayfa Sayısı



4. ve 5. soruyu yukarıda verilem grafiğe göre yanıtlayınız.

4

Haftanın 3. ve 4. günü toplam kaç sayfa kitap okunmuştur?

A. 90

B. 100

C. 110

5

Yukarıdaki grafiğe bakarak aşağıdakilerden hangisini bulamayız?

A. Bu hafta içinde toplam kaç sayfa kitap okuduğunu

B. Eşit sayfa okunan günlere

C. Hafta sonu kaç sayfa kitap okuduğunu



1

$$\begin{array}{r} 12.25 \\ + 05.55 \\ \hline \end{array}$$

Yukarıdaki saatlerle ilgili verilen işlemin sonucu hangisidir?

- A. 17. 20 B. 18. 20 C. 18. 60

2

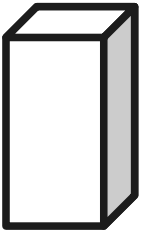
Kumbaramda 4 tane 25 kuruş,
4 tane 50 kuruş ve 10 tane
10 kuruş vardır.



Yağız'ın dediklerine göre Yağız'ın kumbarasında toplam kaç TL'si vardır?

- A. 4 TL B. 13 TL C. 5 TL

3



Kare prizmanın ayrıt ve köşe sayıları toplamı kaçtır?

- A. 16 B. 12 C. 20

4

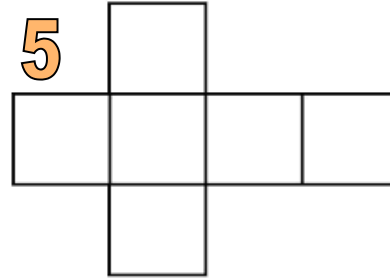


Bir kepçe tuz 140 g gelmektedir.

Defne 5 kepçe tuz almıştır. Buna göre Defne kaç g daha tuz alırsa 1 kg tuz almış olacaktır?

- A. 300 g
B. 700 g
C. 200 g

5



Yanda açılımı verilen geometrik cisimle ilgili olarak aşağı verilenlerden hangisi yanlıştır?

- A. Bu geometrik cisim küptür.
B. Bu geometrik cismin 12 ayrıtı vardır.
C. Bu geometrik cisim 8 eş küpten oluşmaktadır.



1

Fasulyenin Yaşam Döngüsü



Fasulyenin yaşam döngüsüne göre tohumdan sonra ne gelmelidir?

- A. fasulye bitkisi
- B. çiçek
- C. çimlenme

2

Bitkilerle ilgili verilen bilgilerden hangisi yanlıştır?

- A. Bitkiler kendi besinlerini kendileri üretirler.
- B. Bitkiler boşaltım yapmazlar.
- C. Bitkiler kökleri ile suya doğru hareket ederler.

3

Bitki erişkin bir bitki olur ve kendi tohumlarını üretir.

Yukarıda verilen ifade bitkinin yaşam döngüsünün hangi aşamasını belirtir?

- A. fasulye bitkisi
- B. çiçek
- C. çimlenme

4

Canlılarla ilgili verilen bilgilerden hangisi yanlıştır?

- A. Canlılar yaşamları boyunca beslenmeye ihtiyaç duyarlar.
- B. Hayvanlar doğurarak ya da yumurtlayarak çoğalırlar.
- C. Hava, su, toprak canlı varlıklardır.

5

Canlılık özelliği göstermeyen, uygun ortam ve koşullar sağlandığında canlanabilen canlılara 'uyku halindeki canlılar' denir.



Öğretmenin anlattığına göre aşağıdakilerden hangisi bu canlılara bir örnektir?

- A. ayı
- B. yumurta
- C. su



1



Aşağıdakilerden hangisini deprem çantasına koymaya gerek yoktur?

- A. Su
- B. İlk yardım seti
- C. Topaç

2

Aşağıdaki ifadelerden hangisi yanlıştır?

- A. Doğal afet olduğunda paniğe kapılmamalıyız.
- B. Sel anında elektrik kaynaklarından uzak durmalıyız.
- C. Terör saldırısı durumlarında güvenlik güçlerini dinlemeden kaçmalıyız.

3

Aşağıdakilerden hangisi doğal afet değildir?

- A. Trafik kazası
- B. Toprak kayması
- C. Sel baskını

4

Depremden korunmak için hangi öğrencinin söylediği yanlış bir çözümdür?

A.




Binaları sağlam bir zemine yapmalıyız.

B.



Evleri yumuşak zeminlere yapmalıyız.

C.



Evimizde yıkılabilecek eşyaları sabitlemeliyiz.

5

Sel anında aşağıdakilerden hangisini yapmak güvenliğimiz için daha uygundur?

- A. Sel anında çukur olan yerlere inmek.
- B. Sel anında yüksek yerlere çıkmak.
- C. Sel anında suyun içine dalarak güvenli yere gitmek.