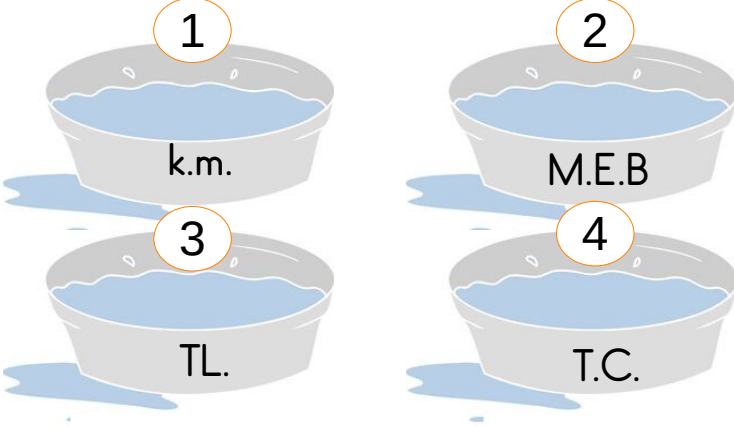




1



Boncuk, kısaltmalardan doğru yazılanın olduğu leğenden su içecektir.

Buna göre kaç numaralı leğenden içer?

- A. 4 B. 3
C. 2 D. 1

2

Aşağıdaki kısaltmalardan hangisinin yazımı yanlıştır?

- A. T. B. Av.
C. KKTC D. T.C.M.B

3

Aşağıdaki cümlelerin hangisinde kısaltmaların yazımı ile ilgili yanlılık yapılmıştır?

- A. THY'den bilet aldım.
B. 3 No.'lu kapıyı bulamadık.
C. LÖSEV'i ziyarete ettik.
D. ABD'ye gidecek misin ?

4

Deniz Mah() Okul Sok. No.: 70 () 2
Merkez()Ağrı

Yukarıdaki adreste yay ayraç içine sırası ile hangi noktalama işareti yazılmalıdır?

- A. Nokta - Eğik çizgi - Eğik çizgi
B. Virgül - Nokta - Eğik çizgi
C. Nokta - Virgül - Eğik çizgi
D. Nokta - Eğik çizgi - Virgül

5

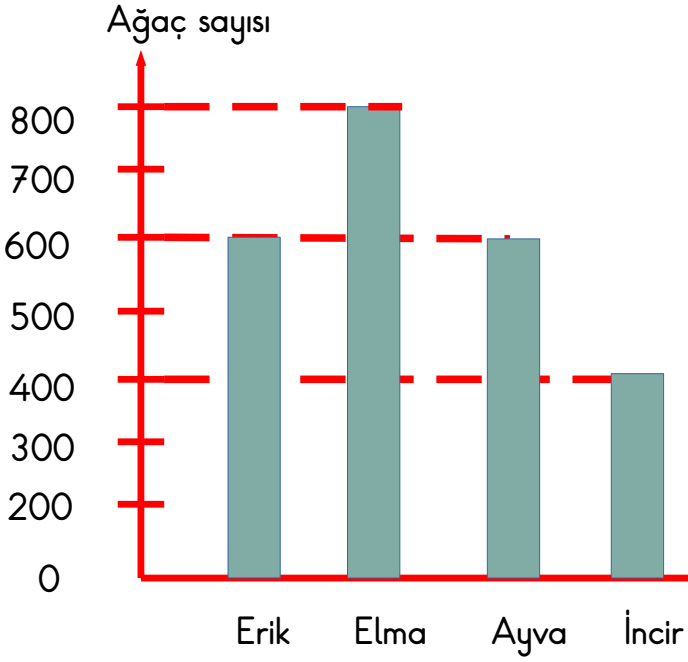
Babam 21()05()2012
tarihinde emekli oldu()

Yukarıdaki cümlede yay ayraç içlerine sırası ile hangi noktalama işaretleri yazılmalıdır?

- A. Tırnak işareti-Tırnak işaret-Nokta
B. Eğik çizgi- Eğik çizgi-Nokta
C. Nokta-Nokta-Ünlem
D. Virgül-Virgül-Nokta



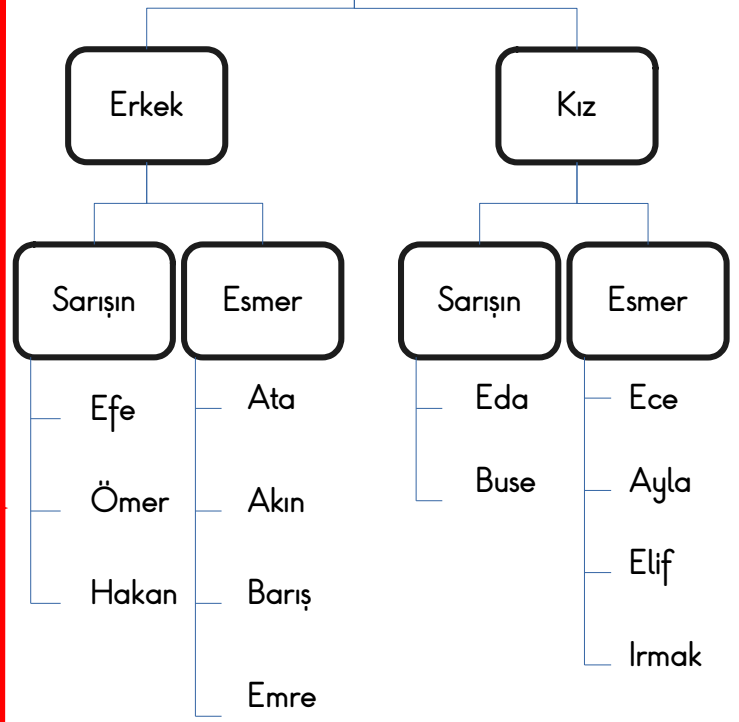
Grafik: Bahçedeki Meyve Ağacı Türleri



İlk 3 soruyu yukarıdaki grafiğe göre yanıtlayınız.

- Yukarıdaki grafiğe göre bahçede kaç tane incir ağacı vardır?
A. 800
B. 500
C. 600
D. 400
- Yukarıdaki grafiğe göre elma ağaçlarının sayısı ayva ağaçlarının sayısından kaç fazladır?
A. 800
B. 200
C. 600
D. 1400
- Yukarıdaki grafiğe göre bahçede kaç ağaç vardır?
A. 2400
B. 1800
C. 3200
D. 2600

4/A Sınıfı



4. ve 5. soruyu yukarıdaki ağaç şemasına göre yanıtlayınız.

- Yukarıdaki ağaç şemasına göre sınıfta kaç esmer öğrenci vardır?
A. 5
B. 8
C. 6
D. 7
- Yukarıdaki ağaç şemasına göre kızlar kaç gruba ayrılmıştır?
A. 2
B. 4
C. 6
D. 7



1

- I. ampul
- II. halojen lamba
- III. mum

Yukarıda verilen aydınlatma araçlarının geçmişten günümüze doğru icat edilme sıralaması hangi seçenekte doğru verilmiştir?

- A. II- III - I
- B. I - III - II
- C. III - II - I
- D. III - I - II


2

Aşağıdakilerden hangisi ilk kullanılan aydınlatma aracıdır?

A.



B.



C.



D.



3

Aşağıdaki bilgilerden hangisi yanlıştır?


- A. Cisimlerden yansıyan ışık gözümüze ulaşarak görmemizi sağlar.
- B. Dünya'nın en büyük ışık kaynağı Güneştir.
- C. Işık bir maddedir.
- D. Ateş hem aydınlatmada hem ısınmada kullanılmıştır.

4




Ampulü icat eden kişi kimdir?

A.




Ediz Hun

B.




Thomas Edison

C.



Albert Einstein

D.



Galileo

5

Aşağıdaki aydınlatma araçlarından hangisi günümüzde diğerlerine göre daha az kullanılmaktadır?


- A. Floresan lamba
- B. Led lamba
- C. Meşale
- D. Ampul



1 Aşağıdakilerden hangisi ihtiyaç sıralamasında diğerlerinden sonra gelir?

- A. Ayakkabı
C. Mont
B. Paten
D. Okul çantası


2 Aşağıda verilen gösellerden hangisinin ilgili olduğu ekonomik faaliyet yanlış yazılmıştır?



Tarım



Hayvancılık



Turizm



Sanayi

3 'Bazı meslekler zamanla önemini yitirmiştir.'

Buna göre aşağıdakilerden hangisi günümüzde önemini yitiren mesleklerdendir?

- A. Doktorluk
C. Kalaycılık
B. Avukatlık
D. Öğretmenlik

4

İnsanların ihtiyaç duyduğu malların veya hizmetin meydana getirilmesidir.



Melis, aşağıdaki kavramlardan hangisinden bahsetmiştir?

- A. Üretim
C. Dağıtım
B. Tüketim
D. Satış

5

Görsellerden hangisi dağıtımla ilgilidir?

