



1

Aşağıdaki cümlelerin hangisinde terim anlamlı bir sözcük vardır?

- A. Havalar iyice soğudu.
- B. Olanları ona da anlattım.
- C. Çay içimizi ısıttı.
- D. Karenin bütün kenarları birbirine eşittir.

2

Kemal



bana getirir misin?

Yukarıdaki cümlede verilen görselin yerine aşağıdakilerden hangisi gelebilir?

- A. o
- B. onu
- C. bu
- D. bizi

3

Aşağıdakilerden hangisi eğik çizginin görevlerinden değildir?

- A. Dizeler yan yana yazıldığında aralarına konur.
- B. Adres yazılırken apartman numarası ile daire numarası arasına konur.
- C. Tarihlerde gün, ay ve yılı ayırmak için konur.
- D. Kendisi ile ilgili örnek verilecek cümlenin sonuna konur.

4

Metnin ana fikrini bulmak için metne aşağıdaki sorulardan hangisini sorarız?



- A. Bu metinden nasıl bir ders çıkardım?
- B. Metin neden söz ediyor?
- C. Metinde geçen zaman dilimi nedir?
- D. Metin hangi bölümlerden oluşmuştur?

5

Ben dönene kadar kitaplarıma göz kulak olur musun?

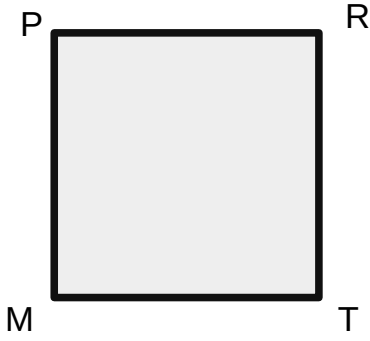


Mert, arkadaşı Kerem'den ne istemektedir?

- A. Kitaplarını kütüphaneye götürmesini
- B. Kitaplarını korumasını
- C. Kitaplarını sesli bir şekilde okumasını
- D. Kitapları okurken iyi dinlemesini




1



Yandaki kareyi adlandırmak isteyen biri bu kareye kaç farklı isim verebilir?

- A. 4
B. 6
C. 8
D. 2


2



Yukarıdaki ABCD dikdörtgeni için verilenlerden hangisi yanlıştır?

- A. $|AB| = |CD|$
B. $|AB| < |AD|$
C. $|AD| = |BC|$
D. $|BC| < |CD|$

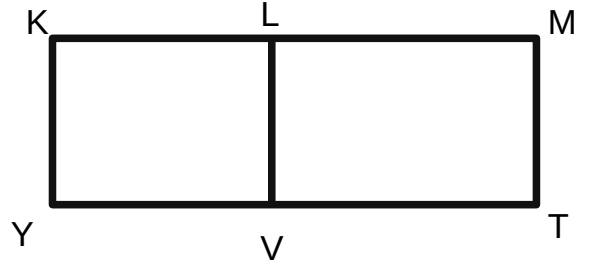
3



Yandaki şekil bir kare olduğuna göre bu şekilde kaç tane ikizkenar üçgen vardır?

- A. 10
B. 4
C. 6
D. 8

4



KLVY bir kare, LMTV ise dikdörtgendir.

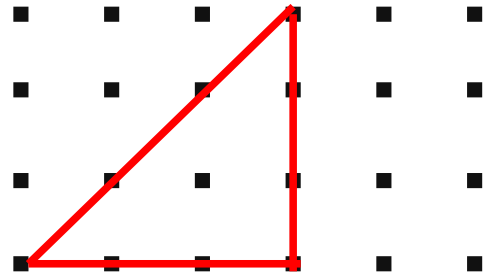
$$|KL| = 4 \text{ cm}$$

$$|VT| = 7 \text{ cm}$$

Olduğuna göre KMTY'nin çevresi kaç cm'dir?

- A. 30 cm
B. 28 cm
C. 22 cm
D. 26 cm

5



İzometrik zemine çizilen üçgenim çeşidi nedir?

- A. Hiçbiri
B. İkizkenar üçgen
C. Eşkenar üçgen
D. Çeşitkenar üçgen



1

- I. Gözkyüzüne yayılan ışık miktarının artması
- II. İnsanların bu konuda yeterince bilinçli olmaması
- III. Yanlış zaman ve yanlış miktarda yapılan aydınlatmalar

Yukarıda verilenlerden hangileri ışık kirliliğinin nedenlerindedir?

- A. II- III
- B. I - III
- C. I - II
- D. I - II - III

2

Nazlı ışık kirliliği ile ilgili afiş hazırlayacaktır. Buna göre aşağıdaki fotoğraflardan hangisini kullanması doğru olmaz?

A.



B.



C.



D.



3

Işık kirliliğinden en çok zarar gören duyu organımız hangisidir?

- A. kulak
- B. göz
- C. burun
- D. dil

4



Yukarıdaki sokak lambalarından hangisi diğerlerine göre en doğru aydınlatmayı yapmaktadır?

- A. 4
- B. 3
- C. 2
- D. 1

5



Su kaplumbağaları geceleri yönlerini gök cisimlerinden yayılan ışığa göre bulur. Yukarıda yönünü şaşırması bir su kaplumbağası verilmiştir. Aşağıdakilerden hangisi bu kirliliğe çözüm olabilir?

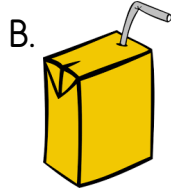
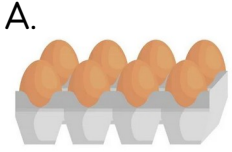
- A. Ampul fiyatlarının artırılması
- B. Halojen lamba kullanımının artırılması
- C. Aydınlatmaların daha yükseğe yapılması
- D. Denize yakın kısımlarda aydınlatmanın belli bir seviyenin üstüne çıkmasının yasaklanması



1 Aşağıdakilerden hangisi bilinçli tüketiciye ait bir davranış olamaz?

- A. Pahalı ürünlerden alır.
- B. Savurganlıktan kaçınır.
- C. Öncelikli olarak ihtiyaçlarını alır.
- D. Alışveriş listesi hazırlar.

2 Aşağıdaki ürünlerden hangisini alırken garanti belgesi alırız?



3  Yandaki sembolün açılımı hangisidir?

- A. Türkiye Sağlık Enstitüsü
- B. Türk Standardları Enstitüsü
- C. Türk Sanayi Enerji Birliği
- D. Türk Standartları Enerjisi

4 Alışveriş yaparken yaptıkları davranışları söyleyen öğrencilerden hangisi yanlış bir davranış sergilemiştir?

- A. Gökhan: Ben TSE damgası olup olmamasına bakıyorum.
- B. Sude: Ben garanti belgesine bakıyorum.
- C. Lale: Ben reklamlarından etkisinde kalarak alışveriş yapıyorum.
- D. Zeynep: Son kullanma tarihlerine bakarım.

5



Konserve ürün alırken aşağıdakilerden hangisine dikkat etmek zorunlu değildir?

- A. Kutunun şişkin veya ezik olmamasına
- B. Kapağının paslı olmamasına
- C. Bir yerinde delik olup olmamasına
- D. Kutunun en az iki renkte olmasına