



1



Öğretmenin tahtaya yazdığı bilgiye göre dersin konusu nedir?

- A. Maddenin Hâlleri
B. Mıknatıslar
C. Yönler
D. Zamirler

2

Aşağıdakilerden hangisinin yazımında yanlışlık yapılmıştır?

- A. bin dokuz yüz yirmi üç
B. 23 Nisan 1920
C. 10'uncu
D. 2'şer

3



Aşağıdakilerden hangisi neden-sonuç cümlesi değildir?

- A. Yaramazlık yaptığından teneffüse çıkamadı.
B. Hava soğuk olduğundan dolayı üşüdüm.
C. Gözlerinin içine bakarak konuştu.
D. Su sıcak olduğu için içemedim.

4

Sevgili Anneciğim



Mektubuna yukarıdaki şekilde başlayan Nuray, 'Anneciğim' kelimesinden sonra hangi noktalama işaretini yazmalıdır?

- A. Nokta
B. Kesme işareti
C. Eğik çizgi
D. Virgül

5

Hırsızlık bir yumurtadan başlar.




Ayşe Teyze'nin söylediği atasözü ile anlatılmak istenen hangisidir?

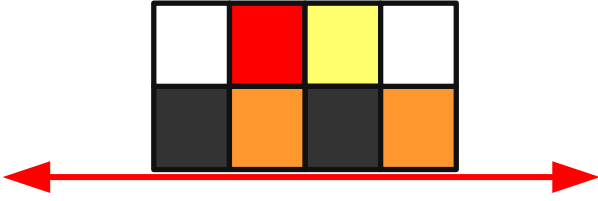
- A. Her insanın kendine has bir çalışma yöntemi vardır.
B. Hırsızlık alışkanlığı değersiz şeyleri çalmakla başlar. Bu yüzden başkalarına ait eşyalara asla dokunmamalıyız.
C. Hırsız olmak için ilk olarak yumurta çalmak gerekmektedir.
D. Her işe zamanında başlamalıyız.



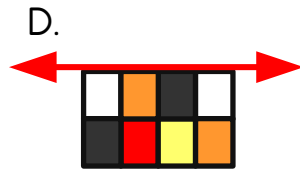

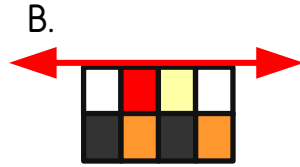
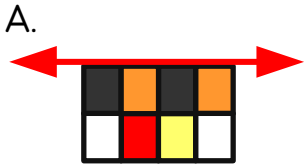
1 Aşağıdaki harflerden hangisinin simetri doğrusu çizilemez?



2



Yukarıdaki boyalı bölgenin doğruya göre simetriği hangisidir?



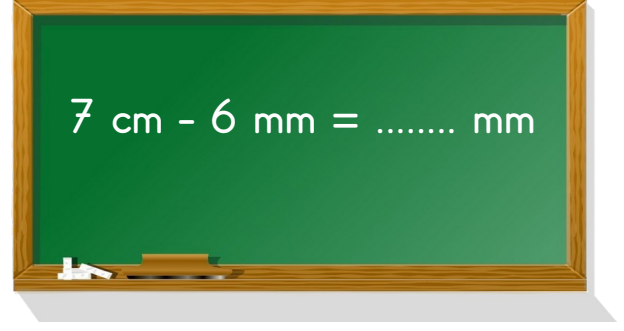
3 $550 \text{ mm} + 70 \text{ mm} + 140 \text{ mm} = \dots\dots\dots \text{ cm}$

Yukarıdaki işlemin sonucu kaç cm'dir?

A. 760
C. 76

B. 72
D. 7600

4



Tahtadaki işlemin sonucu hangisidir?

A. 1 mm
C. 66 mm

B. 64 mm
D. 10 mm

5

1 m 34 cm

1 m 40 cm



Mete ve Elifin boyları arasındaki fark kaç mm'dir?

A. 6
C. 600

B. 40
D. 60



1 Aşağıdakilerden hangisi ilk ses kayıt cihazıdır?

A.



Fonograf

B.



Mikrofon

C.



Gramofon

D.



Pikap

2 Aşağıdakilerden hangisi ses teknolojilerinin kullanım amaçlarından değildir?

- A. Sesin tekrar dinlenilmesini sağlamak.
- B. Fotoğraf çekmek.
- C. Sesin şiddetini artırmak.
- D. İletişimi sağlamak.

3 Aşağıdaki ifadelerden hangisi yanlıştır?

- A. Aşırı ve düzensiz seslere gürültü denir.
- B. İlk ses kayıt cihazı gramofondur.
- C. Ses, insanların iletişim kurmasını sağlar.
- D. Megafon sesin şiddetini artırmak için kullanılır.

4 Aşağıdakilerin hangisinde ses yükseltici cihazların kullanılmasına gerek yoktur?

- A. Stadyum
- B. Konser alanı
- C. Kütüphane
- D. Alışveriş merkezi

5 Aşağıdakilerden hangisi diğerlerinden daha sonra icat edilmiştir?

A.



CD

B.



Plak

C.



Kaset

D.



Radyo

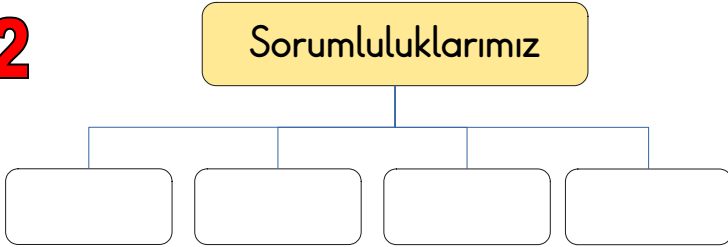


1

Aşağıdakilerden hangisi 4. sınıfa giden Kübra'nın ailesine karşı olan sorumlulukları arasında gösterilemez?

- A. Yatağını toplamak
- B. Sofranın kurulmasına yardım etmek.
- C. Odasını annesine toplatmak
- D. Çiçekleri sulamak

2



Yukarıdaki şemada boş bırakılan yerlere aşağıdakilerden hangisi yazılamaz?

- A. Ödevlerimizi zamanında yapmak
- B. Okul servisini bekletmemek
- C. Okul eşyalarını korumak
- D. Arkadaşlarımızla kötü konuşmak

3

Sorumluluk sahibi kişilerle ilgili aşağıdakilerden hangisi söylenemez?

- A. Planlıdırlar.
- B. Mutsuzdurlar.
- C. İşlerinde daha başarılı olurlar.
- D. İşlerini zamanında yaparlar.

4

- I. Okula zamanında gelmek
- II. Söz almadan konuşmamak
- III. Derslere hazırlıklı gelmek
- IV. Öğrencilere not vermek

Yukarıda verilenlerden hangisi 4. sınıfa giden Tarık'ın okuldaki sorumlulukları arasında yer almaz?

- A. I
- B. II
- C. III
- D. IV

5

Aşağıda verilenlerden hangisi yanlıştır?

- A. Sorumluluk duygusu lisede gelişmeye başlar.
- B. Sınıfta arkadaşlarımıza karşı saygılı davranmalıyız.
- C. Aile bireyleri arasında iş bölümü yapılmalıdır.
- D. Sorumluluk duygusu çocukların zamanı daha verimli kullanmasını sağlar.