



.....
Daha bir ballanır uyku
Çocuklar kardeş oldu mu
Barışır artık kurt kuzu
Çocuklar kardeş oldu mu.

Düşler denizine doğru
Mutluluk bir yelken açar
Her yürek bir altın pınar
Çocuklar kardeş oldu mu.

Daha bir ışıldar akarsu
Çocuklar kardeş oldu mu
Kucaklaşır batıyla doğu
Çocuklar kardeş oldu mu.

Ne açlık kalır ne korku
Korudaki fidanlar gibi
Sevip sevip birbirini
Çocuklar kardeş oldu mu.



1 Okuduğunuz şiirin başlığı ne olabilir? Yazınız.

.....

2 Kurtla kuzu ne zaman barışmaktadır?

.....

3 Şiire göre çocuklar kardeş olunca kimler kucaklaşmaktadır?

.....

4 Okuduğunuz şiirin kıta sayısı kaçtır?

.....

5 Şiirin 3. dizesini hecelerine ayırarak yazınız.

.....



Aşağıdaki kelimelerden doğru yazılanları işaretleyiniz.

öğretmen

öğretmen

herşey

her şey

herkez

herkes

traş

tıraş

aferin

aferim

gaste

gazete

ambulans

ambülans

çarşamba

çarşanba

şarz

şarj

çünkü

çünkü

soğan

sovan

zebze

sebze

kıral

kral

domatez

domates



Yazımı yanlış verilen kelimelerin doğrusunu yanlarına yazınız.

film →

klavuz →

meyva →

şofor →

dinazor →

sarmısak →

pisiklet →

dakka →

tenbel →

tırafik →

eletirik →

gurup →

çenber →



Varlıkların Özelliklerini Belirten Sözcükler



Varlıkların rengini, biçimlerini, sayılarını, sıralarını, durumlarını, yerlerini bildiren sözcüklere varlıkların özelliklerini belirten sözcükler denir.

★ Bu sözcükler isimlerden önce gelir.



Aşağıdaki sözcük gruplarının varlığın hangi özelliğini belirttiğini örnekteki gibi işaretleyiniz.

Kelime	Rengini	Şekli	Sayısını	Durumunu	Sirasını
kare masa		✓			
güzel ev					
uslu çocuk					
beş yumurta					
üçüncü kitap					
soğuk hava					
kırmızı top					
hasta kadın					
üç ekmek					
dördüncü kapı					
yırtık etek					
sıcak süt					
mavi kazak					

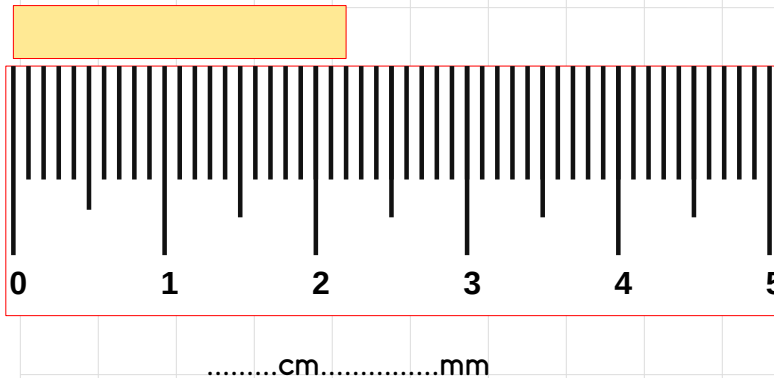
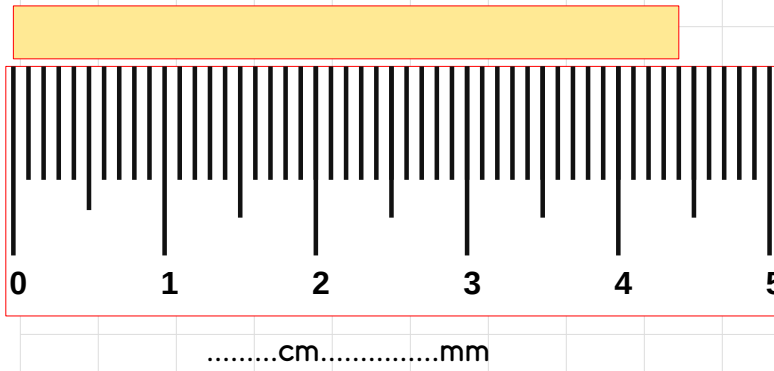
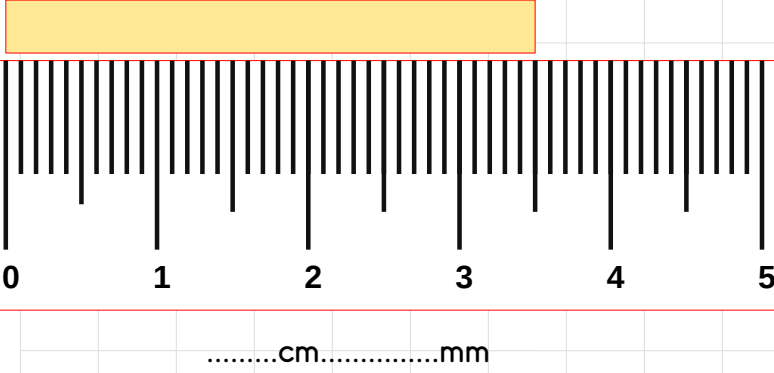


Aşağıda verilen uzunluklardan milimetre ile ölçülenleri işaretleyiniz.

- | | |
|--|--|
| <input type="radio"/> Kalemın boyu | <input type="radio"/> Sıranın uzunluęu |
| <input type="radio"/> Çivinın kalınlığı | <input type="radio"/> Pirincin boyu |
| <input type="radio"/> Defterin uzunluęu | <input type="radio"/> Defterin kalınlığı |
| <input type="radio"/> Şehirler arası uzaklık | <input type="radio"/> Bardağın kalınlığı |
| <input type="radio"/> Ağaçların boyu | <input type="radio"/> Mercimek tanesinin kalınlığı |



Aşağıda verilen çubukların uzunluklarını cm ve mm cinsinden yazınız.



Aşağıda verilen dönüşümleri yapınız.

➔ 1 cm 4 mm = mm

➔ 50 cm = mm

➔ 15 cm = mm

➔ 15 cm 6 mm = mm

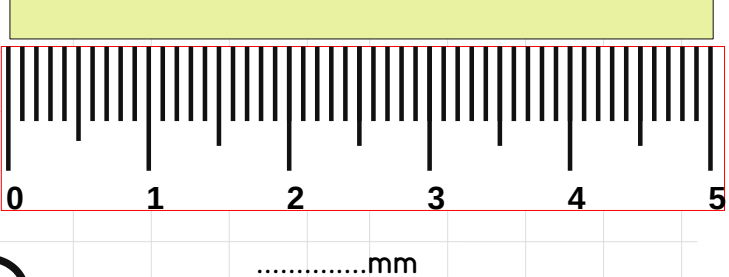
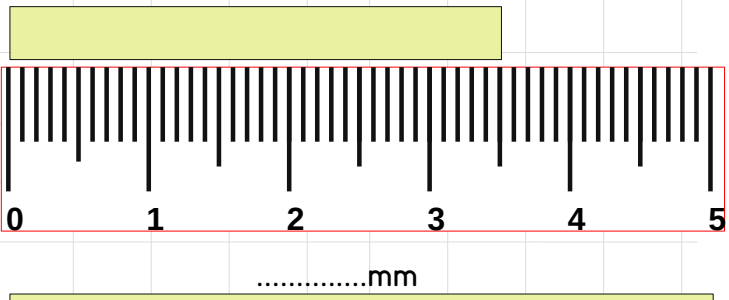
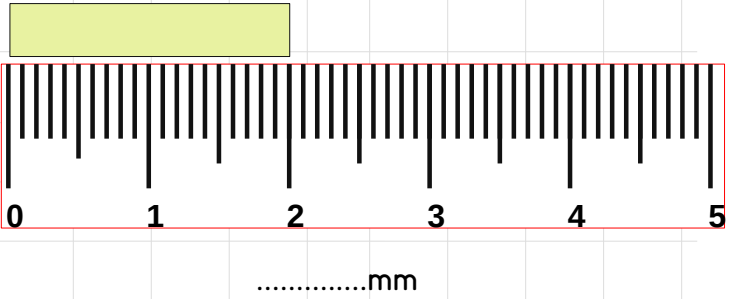
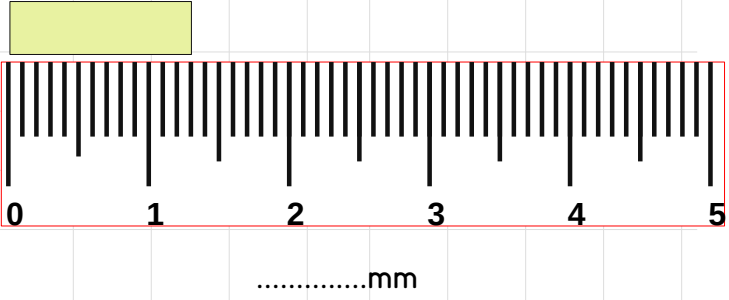
➔ 20 cm 9 mm = mm

➔ 8 cm 8 mm = mm


➔ 30 cm 3 mm = mm




Aşağıda verilen çubukların uzunluklarını 'mm' cinsinden yazınız.






 Aşağıdaki dönüşümleri yapınız.

 44 mm =cm mm


 500 mm =cm mm


 308 mm =cm mm


 209 mm =cm mm

 152 mm =cm mm

 47 mm =cm mm

 425 mm =cm mm


 4 cm 8 mm = mm


 10 cm 9 mm = mm


 20 cm 4 mm = mm


 72 cm 6 mm = mm


 Aşağıdaki işlemleri yapınız.


 6 cm - 9 mm = mm


 12 cm - 9 mm = mm

 70 mm - 65 mm = mm

 15 cm - 50 mm = mm


 80 cm - 600 mm = mm


 7 cm - 8 mm = mm


 10 cm - 90 mm = mm





Aşağıda verilen dönüşümleri yapınız.


 1 m = cm

 50 m = cm


 18 m = cm

 35 m = cm


 44 m = cm


 23 m = cm


 2 m 30 cm = cm


 25 m 15 cm = cm

 15 m 5 cm = cm

 30 m 30 cm = cm


 6 m 50 cm = cm


 24 m 70 cm = cm


 9 m 45 cm = cm





Aşağıdaki işlemleri yapınız.

 6 m - 90 cm = cm

 7 m - 200 cm = cm

 12 m - 500 cm = cm

 6 m 45 cm - 150 cm = cm

 10 m - 250 cm = cm



Sesin Olumsuz Etkileri



Aşağıdaki hangileri ses kirliliğinin olumsuz etkileri arasındadır işaretleyiniz.

<input type="checkbox"/>	Huzur	<input type="checkbox"/>	İşitme kaybı	<input type="checkbox"/>	Sinirlilik	<input type="checkbox"/>	Mutluluk
<input type="checkbox"/>	Görme kaybı	<input type="checkbox"/>	Dikkat dağınıklığı	<input type="checkbox"/>	Stres	<input type="checkbox"/>	Başarı
<input type="checkbox"/>	Baş ağrısı	<input type="checkbox"/>	Grip	<input type="checkbox"/>	Rahatlama	<input type="checkbox"/>	Tedirginlik



Aşağıdaki ortamların hangilerinde bulunmamız durumunda işitme sorunları yaşayabiliriz işaretleyiniz.



Aşağıdaki malzemelerden hangiler ses yalıtımı için kullanılmaktadır işaretleyiniz.


Strafor Köpük



Demir



Çift katlı cam



Stüdyo süngeri

