



## SEVGİ ÇELENGİ

Kondum bilgi dalına  
Nazlı kelebek gibi,  
Mutluluğun rengine  
Boyandım bebek gibi,  
Öğrendim alfabeyi,  
Açıldım çiçek gibi.

Sınıftaki hâlimiz  
Sanki tek yürek gibi,  
Sen her zaman bizleri  
Korudun melek gibi.  
Biricik öğretmenim!  
Biz de teşekkür için  
Sevgini kalbimizde  
Taşırız çelenk gibi.

Bestami YAZGAN





Aşağıdaki tabloyu okuduğunuz şiire göre yanıtlayınız.

Şiirin başlığı:

Şiirin şairi:

Şiirin dize sayısı:

Şiirin 8. dizesi kaç hecedir?:

Şiirin konusu:



Aşağıdaki soruları şiire göre yanıtlayınız.

1. Şiire göre çocuk bilgi dalına nasıl konmuştur?

2. Mutluluğun rengine hangi hayvan gibi boyanmıştır?

3. Çocuklar teşekkür için ne yapmaktadır?

4. Şiirin 9. dizesini aşağıya yazınız.

5. Çocuklar çiçek gibi ne zaman açılmıştır?

6. Çocukları melek gibi koruyan kimdir?



Aşağıdaki kelimelerin anlamlarını sözlükten bularak karşlarına yazınız.

Çelenk



.....

Öğretmen



.....

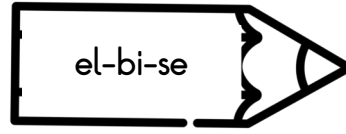
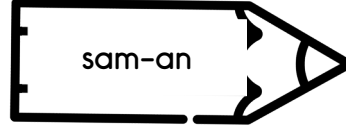
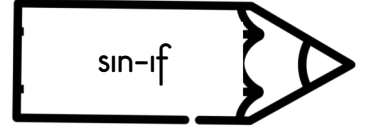
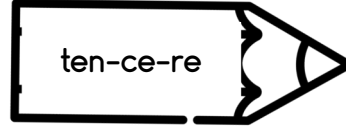
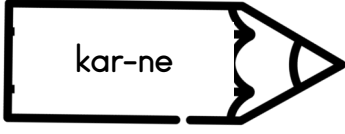
Yürek



.....



Hecelerine doğru ayrılmış kelimelerin kalem ucunu kırmızıya, yanlış ayrılmış kelimelerin kalem ucunu yeşile boyayınız.



Aşağıdaki kelimeleri numaralandırarak sözlük sırasına göre sıralayınız.

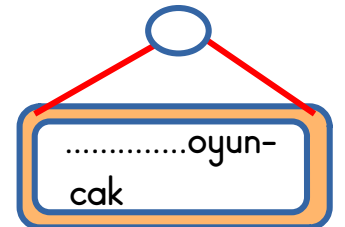
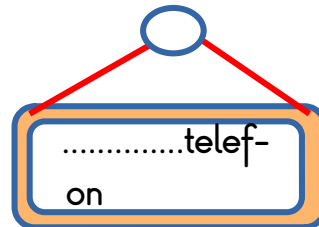
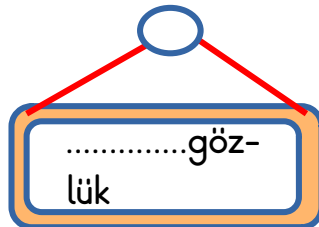
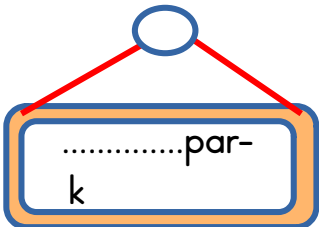
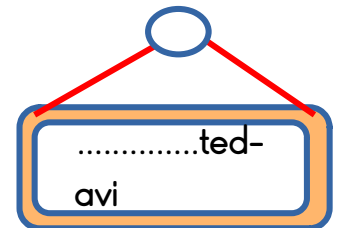
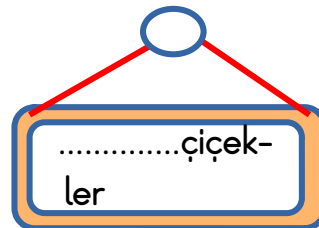
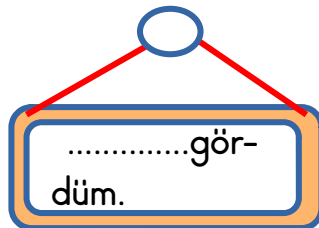
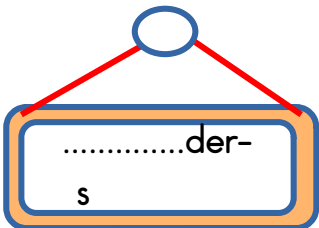
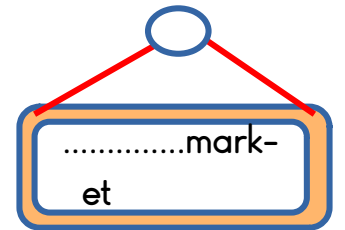
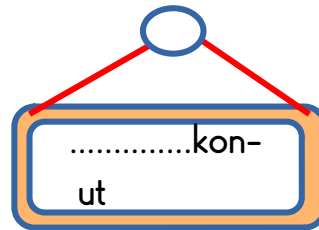
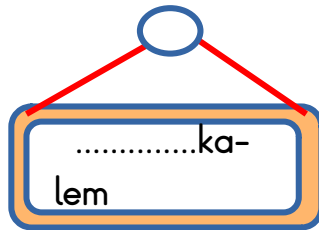
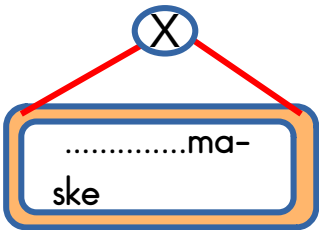
	sakız
	sincap
	pırasa

	doktor
	badem
	aslan

	market
	tavuk
	yastık

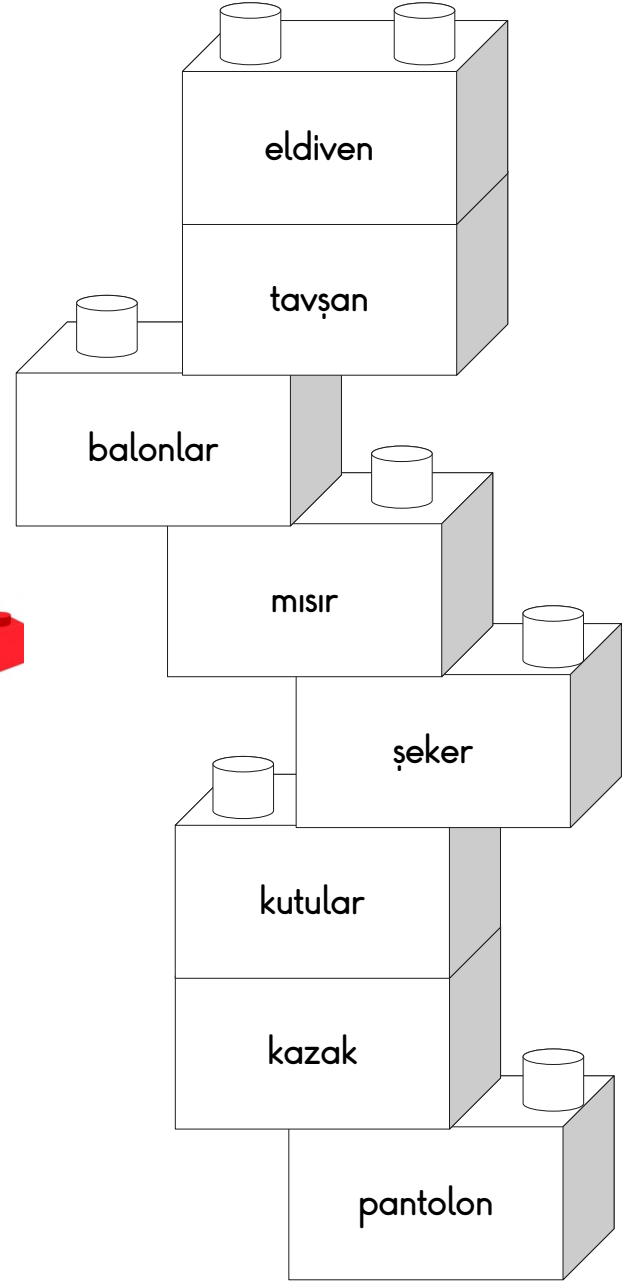
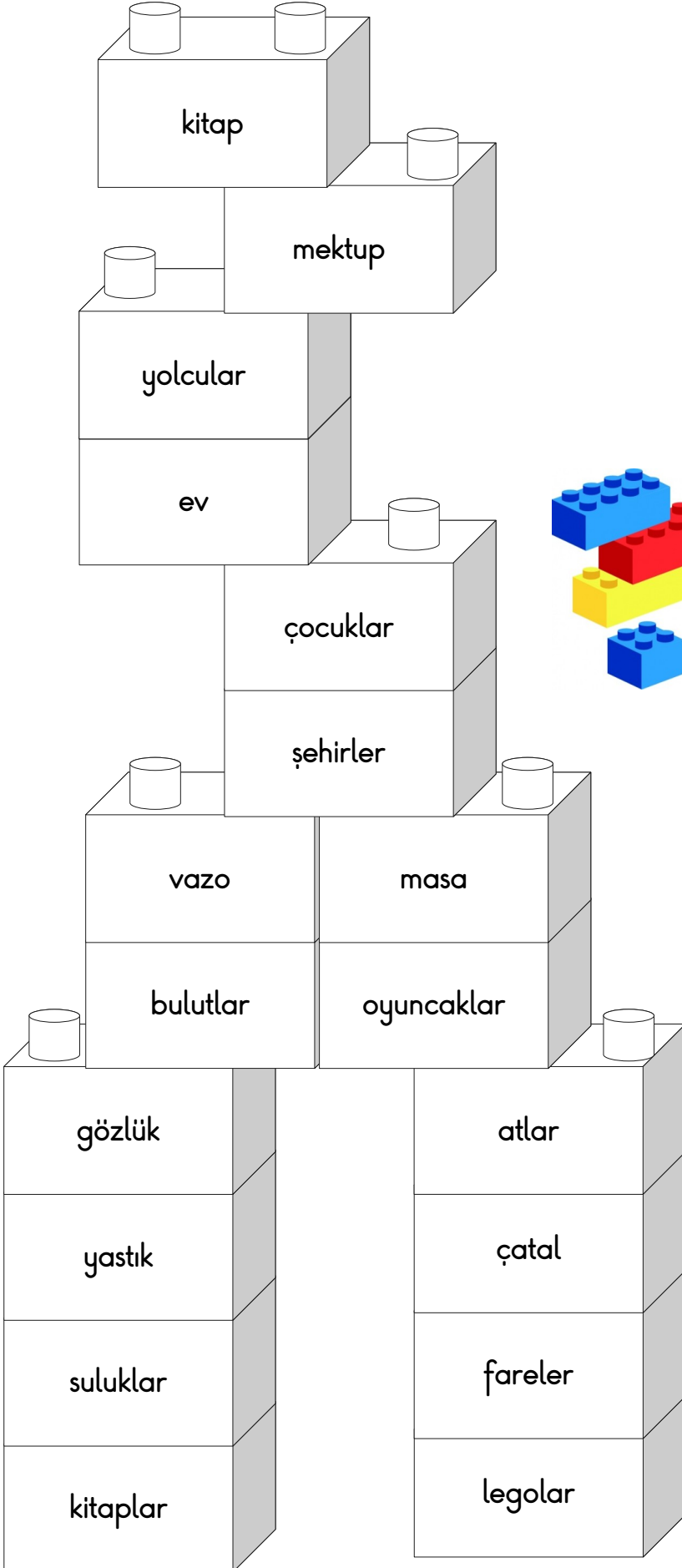


Aşağıdaki kelimeler satır sonundan ayrılmıştır. Bu kelimelerden yanlış ayrılanları örnekteki gibi işaretleyiniz.





Legoların üzerinde yazan adlardan çoğul olanları kırmızıya, tekil olanları maviye boyayınız.





1 38'in 19 eksiğinin 46 fazlası kaçtır?

**Çözüm:**

2 Bir çıkarma işleminde fark 35, çıkan 36 ise eksilen kaçtır?

**Çözüm:**

3 Akın 19 yaşındadır. Sedat, Akın'dan 6 yaş küçüktür. İkisinin yaşları toplamı kaçtır?

**Çözüm:**

4 İki sayının farkı 44'tür. Büyük sayı 76 olduğuna göre küçük sayı kaçtır?

**Çözüm:**

5 Bir otobüste 41 yolcu vardır. Birinci durakta 18 kişi indi, 8 kişi bindi. Son durumda otobüste kaç yolcu vardır?

**Çözüm:**

6 1 onluk 8 birlikten oluşan sayı ile 4 onluk 7 birlikten oluşan sayının toplamı kaçtır?

**Çözüm:**



1



Bir çiftlikte 14 tavuk ve tavukların 4 eksiği kadar horoz vardır. Buna göre çiftlikteki tavuk ve horozların ayak sayıları toplamı kaçtır?

Çözüm:


2



Sınıf mevcudumuz 36'dır. Erkeklerin sayısı 19 olduğuna göre kız sayısı kaçtır?

Çözüm:

3



Terazinin dengede durabilmesi için noktalı yere gelmesi gereken sayının 35 fazlası kaçtır?

Çözüm:

4



Bir ağaçtaki 33 kuşun önce 14 tanesi sonra 8 tanesi uçtu. Ağaçta geriye kaç kuş kalmıştır?

Çözüm:

5

Onlar basamağında 6 bulunan en küçük sayının 24 eksiği kaçtır?

Çözüm:

6



80 TL'si olan Hasan, yandaki tişörtü alırsa geriye kaç parası kalır?

Çözüm: 38 TL



1 36'nın 17 eksiğinin 28 fazlası kaçtır?

**Çözüm:**

2 Bir çıkarma işleminde fark 62, çıkan 22 ise eksilen kaçtır?

**Çözüm:**

3 Akın 16 yaşındadır. Sedat, Akın'dan 7 yaş küçüktür. İkisinin yaşları toplamı kaçtır?

**Çözüm:**

4 İki sayının farkı 29'dur. Büyük sayı 58 olduğuna göre küçük sayı kaçtır?

**Çözüm:**

5 Bir otobüste 39 yolcu vardır. Birinci durakta 16 kişi indi, 9 kişi bindi. Son durumda otobüste kaç yolcu vardır?

**Çözüm:**

6 2 onluk 8 birlikten oluşan sayı ile 3 onluk 7 birlikten oluşan sayının toplamı kaçtır?

**Çözüm:**



1



Bir çiftlikte 12 tavuk ve tavukların 5 eksiği kadar horoz vardır. Buna göre çiftlikteki tavuk ve horozların ayak sayıları toplamı kaçtır?

Çözüm:


2



Sınıf mevcudumuz 38'dir. Kızların sayısı 20 olduğuna göre erkeklerin sayısı kaçtır?

Çözüm:

3



Terazinin dengede durabilmesi için noktalı yere gelmesi gereken sayının 30 fazlası kaçtır?

Çözüm:

4



Bir ağaçtaki 52 kuşun önce 20 tanesi sonra 12 tanesi uçtu. Ağaçta geriye kaç kuş kalmıştır?

Çözüm:

5

Onlar basamağında 5 bulunan en büyük sayının 28 eksiği kaçtır?

Çözüm:

6



43 TL

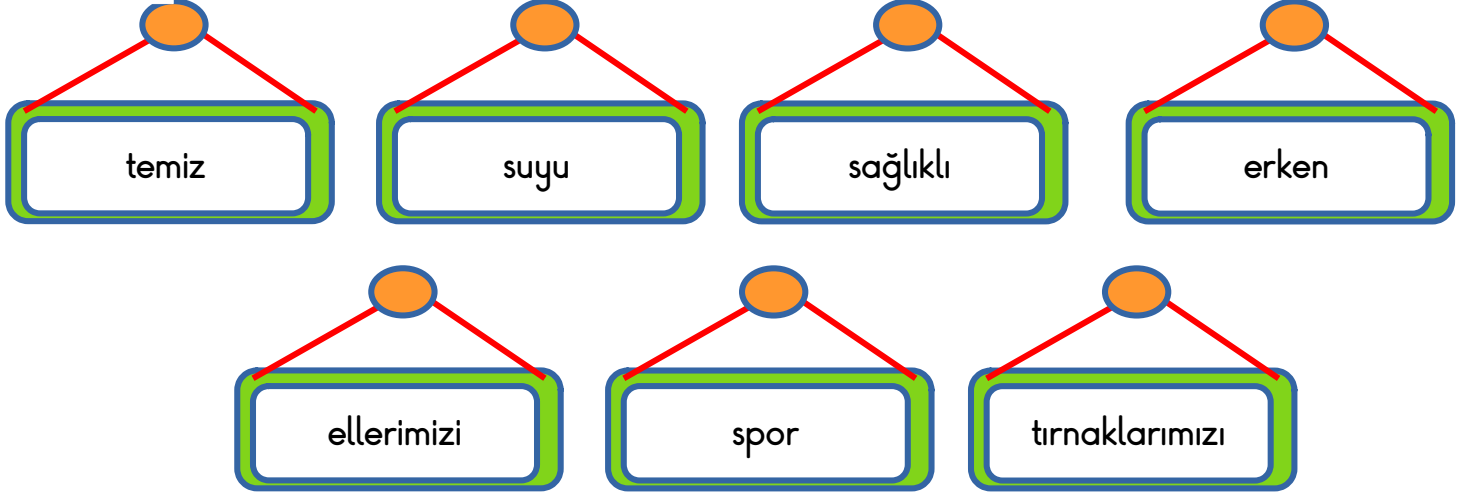
70 TL'si olan Hasan, yandaki tişörtü alırsa geriye kaç parası kalır?

Çözüm:



**Sağlıklı Olalım**

Aşağıdaki noktalı yerleri uygun ifadelerle tamamlayınız.



- Kişisel bakım ..... hayat için önemlidir.
- Kişisel bakım yaparken ..... tasarruflu kullanmalıyız.
- Giysilerimizi ..... tutmalıyız.
- ..... saatte yatmalıyız.
- ..... uzayınca kesmeliyiz.
- Ağlıklı bir vücut için ..... yapmalıyız.
- Yemekten önce ve sonra ..... yıkamalıyız.



Aşağıdaki ifadelerden doğru olanların başına 'D', yanlış olanların başına 'Y' yazınız.

( .....) Dişlerimizi hafta bir defa fırçalamalıyız.

( .....) Açıktaki satılan yiyeceklerden almamalıyız.

( .....) Gece istediğimiz saatte yatabiliriz.

( .....) Sebze meyve yerine abur cubur yemeliyiz.

( .....) Diş fırçamızı 6 ayda bir değiştirmeliyiz.

( .....) Tırnaklarımızı kesmek kişisel bakımımız için yeterlidir.

( .....)Spor yapmak vücudumuza zarar verir.